

LAUKO TEORIJS ELEMENTAI

8.1 Dualios vektorių bazės

Sakykime $\mathbf{r}_1, \mathbf{r}_2, \mathbf{r}_3$ trimatės erdvės bazė. Trys vektoriai sudaro bazę, jeigu jie yra nekomplanarūs, t. y. neguli vienoje plokštumoje. Žinome, kad $\mathbf{r}_1, \mathbf{r}_2, \mathbf{r}_3$ neguli vienoje plokštumoje tada ir tik tada, kai jų mišrioji sandauga $[\mathbf{r}_1\mathbf{r}_2\mathbf{r}_3] \neq 0$. Jei

$$\begin{aligned}\mathbf{r}_1 &= (x_1; y_1; z_1), \\ \mathbf{r}_2 &= (x_2; y_2; z_2), \\ \mathbf{r}_3 &= (x_3; y_3; z_3),\end{aligned}$$

tai

$$[\mathbf{r}_1\mathbf{r}_2\mathbf{r}_3] = \begin{vmatrix} x_1 & y_1 & z_1 \\ x_2 & y_2 & z_2 \\ x_3 & y_3 & z_3 \end{vmatrix}.$$

Bazė $\mathbf{r}^1, \mathbf{r}^2, \mathbf{r}^3$ vadinama dualia bazei $\mathbf{r}_1, \mathbf{r}_2, \mathbf{r}_3$, kai teisingos lygybės

$$\begin{aligned} \nearrow \text{skaliarinė sandauga} \quad \mathbf{r}_i \mathbf{r}^k &= \delta_i^k = \begin{cases} 1, & \text{kai } i = k, \\ 0, & \text{kai } i \neq k; \end{cases} \quad i, k = 1, 2, 3. \end{aligned} \quad (1)$$

Nesunku įsitikinti, kad (1) lygybė vienareikšmiškai nusako dualią bazę duotai bazei $\mathbf{r}_1, \mathbf{r}_2, \mathbf{r}_3$. Galima įrodyti, kad

$$\mathbf{r}^1 = \frac{\mathbf{r}_2 \times \mathbf{r}_3}{[\mathbf{r}_1\mathbf{r}_2\mathbf{r}_3]}, \quad \mathbf{r}^2 = \frac{\mathbf{r}_3 \times \mathbf{r}_1}{[\mathbf{r}_1\mathbf{r}_2\mathbf{r}_3]}, \quad \mathbf{r}^3 = \frac{\mathbf{r}_1 \times \mathbf{r}_2}{[\mathbf{r}_1\mathbf{r}_2\mathbf{r}_3]}.$$

\nwarrow vektorinė sandauga

Pasirinkus bet kokią erdvės vektorių \mathbf{x} , galima jį išreikšti abiejose bazėse. Būtent:

$$\left. \begin{aligned} \mathbf{x} &= x_1 \mathbf{r}^1 + x_2 \mathbf{r}^2 + x_3 \mathbf{r}^3, \\ \mathbf{x} &= x^1 \mathbf{r}_1 + x^2 \mathbf{r}_2 + x^3 \mathbf{r}_3. \end{aligned} \right\} \quad (2)$$

Skaičiai x_1, x_2, x_3 vadinami vektoriaus \mathbf{x} kovariantinėmis koordinatėmis, o x^1, x^2, x^3 kontravariantinėmis koordinatėmis.

Pastabos:

1. Jei $\mathbf{r}_1, \mathbf{r}_2, \mathbf{r}_3$ yra ortonormuota, tai dualioji bazė $\mathbf{r}^1, \mathbf{r}^2, \mathbf{r}^3$ sutampa su baze $\mathbf{r}_1, \mathbf{r}_2, \mathbf{r}_3$.
2. Trumpindami formules susitariame: jeigu reiškinyje yra du vienodi indeksai - vienas apatinis kitas viršutinis, tai laikome, kad reiškinyje yra suma: indeksams suteikiamos reikšmės 1, 2, 3 ir gauti dėmenys sudedami. Pavyzdžiui,

$$\begin{aligned} x_i \mathbf{r}^i &= x_1 \mathbf{r}^1 + x_2 \mathbf{r}^2 + x_3 \mathbf{r}^3, \\ x^i \mathbf{r}_i &= x^1 \mathbf{r}_1 + x^2 \mathbf{r}_2 + x^3 \mathbf{r}_3. \end{aligned}$$

3. Jeigu erdvė yra dvimatė, o ne trimatė, visi indeksai gali įgyti dvi, o ne tris reikšmes.

Kiekvienas vektorius \mathbf{x} turi kovariantines ir kontravariantines koordinates. Kaip jas rasti?

Iš (1) ir (2) turime

$$\begin{aligned} \mathbf{x} \mathbf{r}_k &= (x_i \mathbf{r}^i) \mathbf{r}_k = x_i (\mathbf{r}^i \mathbf{r}_k) = x_i \delta_k^i = x_k, \\ \mathbf{x} \mathbf{r}^k &= (x^i \mathbf{r}_i) \mathbf{r}^k = x^i (\mathbf{r}_i \mathbf{r}^k) = x^i \delta_k^i = x^k. \end{aligned}$$

Taigi

$$\begin{aligned} x_k &= \mathbf{x} \mathbf{r}_k, \\ x^k &= \mathbf{x} \mathbf{r}^k. \end{aligned}$$

visiems $k = 1, 2, 3$.

Remdamiesi gautomis lygybėmis, (2) formulę galima užrašyti taip:

$$\left. \begin{aligned} \mathbf{x} &= (\mathbf{x}\mathbf{r}_i)\mathbf{r}^i, \\ \mathbf{x} &= (\mathbf{x}\mathbf{r}^i)\mathbf{r}_i. \end{aligned} \right\}$$

Gauti sąryšiai vadinami Gibso* formulėmis.

Uždaviniai

1. Nustatykite ar vektoriai $\mathbf{r}_1 = (1; 0; 1)$, $\mathbf{r}_2 = (2; 2; 0)$, $\mathbf{r}_3 = (1; -1; 0)$ sudaro bazę erdvėje \mathbb{R}^3 .
2. Įsitikinkite, kad vektoriai $\mathbf{r}_1 = (1; 1; 1)$, $\mathbf{r}_2 = (1; 0; 1)$, $\mathbf{r}_3 = (-1; -1; 0)$ sudaro bazę ir raskite šiai bazei dualią bazę.
3. Įsitikinkite, kad vektoriai $\mathbf{r}_1 = (1; 1; 1)$, $\mathbf{r}_2 = (1; 1; 2)$, $\mathbf{r}_3 = (1; 2; 3)$ sudaro bazę. Raskite vektoriaus $\mathbf{x} = (3; -2; 4)$ kovariantines ir kontravariantines koordinates.
4. Įsitikinkite, kad vektoriai $\mathbf{r}_1 = (1; 1; 2)$, $\mathbf{r}_2 = (1; -\frac{1}{2}; \frac{1}{3})$, $\mathbf{r}_3 = (\frac{1}{2}; \frac{1}{3}; \frac{1}{2})$ sudaro bazę. Raskite vektoriaus $\mathbf{x} = (\frac{1}{2}; \frac{1}{3}; \frac{1}{4})$ kovariantines ir kontravariantines koordinates.
5. Sakykime $\mathbf{r}_1 = (2; 1; 3; 1)$, $\mathbf{r}_2 = (1; 2; 0; 1)$, $\mathbf{r}_3 = (-1; 1; -3; 0)$. Raskite erdvės \mathbb{R}^4 poerdvio $L(\mathbf{r}_1; \mathbf{r}_2; \mathbf{r}_3)$ dimensiją, bazę ir dualią bazę. Aibė $L(\mathbf{r}_1; \mathbf{r}_2; \mathbf{r}_3)$ yra vektorių sistemos $\mathbf{r}_1, \mathbf{r}_2, \mathbf{r}_3$ tiesinis apvalkalas, t. y. $L(\mathbf{r}_1; \mathbf{r}_2; \mathbf{r}_3) = \{\mathbf{x} : \mathbf{x} = u_1\mathbf{r}_1 + u_2\mathbf{r}_2 + u_3\mathbf{r}_3 : u_1, u_2, u_3 \in \mathbb{R}\}$.

8.2 Dualių bazių transformavimas

Sakykime \mathbf{r}_i ir \mathbf{r}^i ($i = 1, 2, 3$) yra viena kitai dualios bazės, o $\mathbf{r}_{i'}$ ir $\mathbf{r}^{i'}$ – naujos dualios bazės. Aišku, kad

$$\left. \begin{aligned} \mathbf{r}_{i'} &= b_{i'}^i \mathbf{r}_i, \\ \mathbf{r}_i &= b_i^{i'} \mathbf{r}_{i'}, \end{aligned} \right\} \quad i, i' = 1, 2, 3. \quad (1)$$

Kadangi užrašytos transformacijos viena kitai atvirkštinės tai matricos $(b_{i'}^i)$ ir $(b_i^{i'})$ irgi viena kitai atvirkštinės.

Analogiškai

$$\left. \begin{aligned} \mathbf{r}^{i'} &= \tilde{b}_i^{i'} \mathbf{r}^i, \\ \mathbf{r}^i &= \tilde{b}_{i'}^i \mathbf{r}^{i'}, \end{aligned} \right\} \quad i, i' = 1, 2, 3. \quad (2)$$

Dėl tos pačios priežasties matricos $(\tilde{b}_{i'}^i)$ ir $(\tilde{b}_i^{i'})$ irgi atvirkštinės. Parodysime, jog $(b_{i'}^i)$ ir $(\tilde{b}_{i'}^i)$ sutampa. Tuomet bus parodyta kad matricos $(b_i^{i'})$ ir $(\tilde{b}_i^{i'})$ irgi sutampa.

►

Iš (1) lygybės turime

$$\mathbf{r}_{i'} \mathbf{r}^k = (b_{i'}^i \mathbf{r}_i) \mathbf{r}^k = b_{i'}^i (\mathbf{r}_i \mathbf{r}^k) = b_{i'}^i \delta_i^k = b_{i'}^k.$$

Taigi $b_{i'}^k = \mathbf{r}_{i'} \mathbf{r}^k$.

Iš (2) lygybės turime

$$\mathbf{r}^i \mathbf{r}_{k'} = (\tilde{b}_{i'}^i \mathbf{r}^{i'}) \mathbf{r}_{k'} = \tilde{b}_{i'}^i (\mathbf{r}^{i'} \mathbf{r}_{k'}) = \tilde{b}_{i'}^i \delta_{i'}^{k'} = \tilde{b}_{k'}^i.$$

Iš čia $\tilde{b}_{k'}^i = \mathbf{r}^i \mathbf{r}_{k'} = \mathbf{r}_{k'} \mathbf{r}^i$.

Matosi, kad $b_{i'}^i = \tilde{b}_{i'}^i$ ($i, i' = 1, 2, 3$). Taigi matricos $(b_{i'}^i)$ ir $(\tilde{b}_{i'}^i)$ sutampa. ◀

Vadinasi, norint pakeisti dualias bazes $\mathbf{r}_i, \mathbf{r}^i$ bazėmis $\mathbf{r}_{i'}, \mathbf{r}^{i'}$ užtenka žinoti bazės \mathbf{r}_i keitimo baze $\mathbf{r}_{i'}$ matricą $(b_{i'}^i)$. (1) ir (2) formules galima taip perrašyti:

$$\left. \begin{aligned} \mathbf{r}_{i'} &= b_{i'}^i \mathbf{r}_i, \\ \mathbf{r}_i &= b_i^{i'} \mathbf{r}_{i'}, \\ \mathbf{r}^{i'} &= \tilde{b}_i^{i'} \mathbf{r}^i, \\ \mathbf{r}^i &= \tilde{b}_{i'}^i \mathbf{r}^{i'}, \end{aligned} \right\} \quad (b_{i'}^i) = (b_i^{i'})^{-1}. \quad (3)$$

Sakykime x_i ir $x_{i'}$ yra vektoriaus \mathbf{x} kovariantinės koordinatės bazėse \mathbf{r}^i ir $\mathbf{r}^{i'}$. Rasime ryšį tarp šių koordinatčių.

* D. V. Gibsas (1839–1903) – amerikiečių fizikas teoretikas



Iš Gibso formulių

$$x_{i'} = \mathbf{x} \mathbf{r}_{i'}.$$

Kadangi $\mathbf{r}_{i'} = b_{i'}^i \mathbf{r}_i$, tai

$$x_{i'} = \mathbf{x} b_{i'}^i \mathbf{r}_i = b_{i'}^i (\mathbf{x} \mathbf{r}_i) = b_{i'}^i x_i.$$



Vadinasi, kovariantinių vektoriaus koordinačių transformavimo formulės, kai sena bazė keičiama nauja, yra tokios:

$$x_{i'} = b_{i'}^i x_i. \quad (4)$$

Matome, kad naujoms kovariantinėms koordinatėms rasti naudojama matrica pervedanti seną sistemą į naują. Iš čia ir koordinačių pavadinimas. Kovariantinis = suderintai kintantis.

Analogiškai (4) formulei galima gauti

$$x^{i'} = b_i^{i'} x^i. \quad (5)$$

Iš šios formulės matome, kad skaičiuojant kontravariantines koordinates naudojama senos bazės keitimo nauja atvirkštinė matrica $(b_i^{i'}) = (b_{i'}^i)^{-1}$. Iš čia ir koordinačių pavadinimas. Kontravariantinis = priešingai kintantis.

Uždaviniai

1. Raskite matricą, kuri bazę $\mathbf{r}_1 = (1; 1)$, $\mathbf{r}_2 = (1; 2)$ keičia baze $\mathbf{r}_{1'} = (-1; -1)$, $\mathbf{r}_{2'} = (-1; -3)$.
2. Raskite matricą, kuri bazę $\mathbf{r}_1 = (1; 0; 1)$, $\mathbf{r}_2 = (2; 2; 0)$, $\mathbf{r}_3 = (1; -1; 0)$ keičia baze $\mathbf{r}_{1'} = (1; 1; 1)$, $\mathbf{r}_{2'} = (1; 0; 1)$, $\mathbf{r}_{3'} = (-1; -1; 0)$.
3. Raskite matricą atvirkštinę matricai

$$A = \begin{pmatrix} 2 & 2 & 3 \\ 1 & -1 & 0 \\ -1 & 2 & 1 \end{pmatrix}.$$

4. Sakykime $\mathbf{r}_1 = (1; 1; 0)$, $\mathbf{r}_2 = (0; 1; 1)$, $\mathbf{r}_3 = (1; 0; 1)$ yra erdvės \mathbb{R}^3 bazė. Tegul $\mathbf{x} = \mathbf{r}_1 + 2\mathbf{r}_2 + 3\mathbf{r}_3$ vektoriaus \mathbf{x} išraiška kovariantinėmis koordinatėmis. Raskite vektoriaus \mathbf{x} kovariantines koordinates bazėje $\mathbf{r}_{1'}$, $\mathbf{r}_{2'}$, $\mathbf{r}_{3'}$ jeigu $\mathbf{r}_{1'} = (1; 2; 3)$, $\mathbf{r}_{2'} = (2; 3; 4)$, $\mathbf{r}_{3'} = (3; 4; 5)$.
5. Sakykime $\mathbf{r}_1 = (1; 1; 2)$, $\mathbf{r}_2 = (1; 2; 1)$, $\mathbf{r}_3 = (2; 1; 1)$ yra erdvės \mathbb{R}^3 bazė. Tegul $\mathbf{x} = \mathbf{r}_1 + 2\mathbf{r}_2 + 3\mathbf{r}_3$ vektoriaus \mathbf{x} išraiška kontravariantinėmis koordinatėmis. Raskite vektoriaus \mathbf{x} kontravariantines koordinates bazėje $\mathbf{r}_{1'} = (-1; 0; 1)$, $\mathbf{r}_{2'} = (-1; -1; 0)$, $\mathbf{r}_{3'} = (0; -1; -1)$.

8.3 Tiesinio operatoriaus invariantai

Reiškinius, nepriklausančius nuo bazės parinkimo vadinsime invariantais. Šiame skyrelyje nustatysime kelis tiesinio operatoriaus $A : \mathbb{R}^3 \rightarrow \mathbb{R}^3$ invariantus.

Operatorių $A : \mathbb{R}^3 \rightarrow \mathbb{R}^3$ vadiname tiesiniu, jeigu $A(\alpha\mathbf{x} + \beta\mathbf{y}) = \alpha A(\mathbf{x}) + \beta A(\mathbf{y})$ bet kokiems vektoriams \mathbf{x}, \mathbf{y} ir bet kokiems realiems skaičiams α, β .

1. Sakykime $\mathbf{r}_i, \mathbf{r}^i$ ($i = 1, 2, 3$) yra dualios bazės erdvėje \mathbb{R}^3 . Dydis

$$\mathbf{r}^i A \mathbf{r}_i$$

yra invariantas.

► Reikia įrodyti, kad imant naujas bazes $\mathbf{r}_{i'}, \mathbf{r}^{i'}$ bus teisinga lygybė

$$\mathbf{r}^i \mathbf{A} \mathbf{r}_i = \mathbf{r}^{i'} \mathbf{A} \mathbf{r}_{i'}.$$

Sakykime $(b_{i'}^i)$ bazės \mathbf{r}_i keitimo baze $\mathbf{r}_{i'}$ matrica. Tada (žr. (3) iš 8.2 skyrelio)

$$\mathbf{r}_i = b_{i'}^i \mathbf{r}_{i'}, \quad \mathbf{r}^i = b_{k'}^i \mathbf{r}^{k'}.$$

Vadinasi,

$$\mathbf{r}^i \mathbf{A} \mathbf{r}_i = b_{k'}^i \mathbf{r}^{k'} \mathbf{A} b_{i'}^i \mathbf{r}_{i'} = (b_{k'}^i b_{i'}^i) \mathbf{r}^{k'} \mathbf{A} \mathbf{r}_{i'} = \delta_{k'}^i \mathbf{r}^{k'} \mathbf{A} \mathbf{r}_{i'} = \mathbf{r}^{i'} \mathbf{A} \mathbf{r}_{i'}.$$

◀ Tiesinio operatoriaus invariantą $\mathbf{r}^i \mathbf{A} \mathbf{r}_i$ vadiname to operatoriaus divergencija ir žymime $\operatorname{div} A$. Taigi $\operatorname{div} A = \mathbf{r}^i \mathbf{A} \mathbf{r}_i$.

Turėdami bazę \mathbf{r}_i ($i = 1, 2, 3$) tiesinį operatorių A galime aprašyti matrica (a_i^k) , kur

$$\mathbf{A} \mathbf{r}_i = a_i^k \mathbf{r}_k.$$

Iš čia

$$\mathbf{r}^j \mathbf{A} \mathbf{r}_i = \mathbf{r}^j a_i^k \mathbf{r}_k = a_i^k \mathbf{r}^j \mathbf{r}_k = a_i^k \delta_k^j = a_i^j.$$

Taigi

$$\begin{pmatrix} a_1^1 & a_2^1 & a_3^1 \\ a_1^2 & a_2^2 & a_3^2 \\ a_1^3 & a_2^3 & a_3^3 \end{pmatrix} = (a_i^j) = (\mathbf{r}^j \mathbf{A} \mathbf{r}_i) = \begin{pmatrix} \mathbf{r}^1 \mathbf{A} \mathbf{r}_1 & \mathbf{r}^1 \mathbf{A} \mathbf{r}_2 & \mathbf{r}^1 \mathbf{A} \mathbf{r}_3 \\ \mathbf{r}^2 \mathbf{A} \mathbf{r}_1 & \mathbf{r}^2 \mathbf{A} \mathbf{r}_2 & \mathbf{r}^2 \mathbf{A} \mathbf{r}_3 \\ \mathbf{r}^3 \mathbf{A} \mathbf{r}_1 & \mathbf{r}^3 \mathbf{A} \mathbf{r}_2 & \mathbf{r}^3 \mathbf{A} \mathbf{r}_3 \end{pmatrix}. \quad (1)$$

Vadinasi, jei A matrica bazėje \mathbf{r}_i yra (a_i^k) , tai

$$\operatorname{div} A = \mathbf{r}^i \mathbf{A} \mathbf{r}_i = \mathbf{r}^1 \mathbf{A} \mathbf{r}_1 + \mathbf{r}^2 \mathbf{A} \mathbf{r}_2 + \mathbf{r}^3 \mathbf{A} \mathbf{r}_3 = a_1^1 + a_2^2 + a_3^3. \quad (2)$$

2. Tegul vėl $\mathbf{r}_i, \mathbf{r}^i$ ($i = 1, 2, 3$) yra dualios bazės erdvėje \mathbb{R}^3 . Dydis $\mathbf{r}_i \times \mathbf{A} \mathbf{r}^i$ yra invariantas.

► Sakykime $\mathbf{r}_{i'}$ naujoji bazė, o $(b_{i'}^i)$ bazės \mathbf{r}_i keitimo baze $\mathbf{r}_{i'}$ matrica. Tada

$$\mathbf{r}_i = b_{i'}^i \mathbf{r}_{i'}, \quad \mathbf{r}^i = b_{k'}^i \mathbf{r}^{k'}.$$

Vadinasi,

$$\mathbf{r}_i \times \mathbf{A} \mathbf{r}^i = (b_{i'}^i \mathbf{r}_{i'}) \times (\mathbf{A} b_{k'}^i \mathbf{r}^{k'}) = (b_{i'}^i b_{k'}^i) (\mathbf{r}_{i'} \times \mathbf{A} \mathbf{r}^{k'}) = \delta_{k'}^i (\mathbf{r}_{i'} \times \mathbf{A} \mathbf{r}^{k'}) = \mathbf{r}_{i'} \times \mathbf{A} \mathbf{r}^{i'}.$$

◀ Tiesinio operatoriaus A invariantą $\mathbf{r}_i \times \mathbf{A} \mathbf{r}^i$ vadiname to operatoriaus rotoriumi ir žymime $\operatorname{rot} A$. Taigi

$$\operatorname{rot} A = \mathbf{r}_i \times \mathbf{A} \mathbf{r}^i = \mathbf{r}_1 \times \mathbf{A} \mathbf{r}^1 + \mathbf{r}_2 \times \mathbf{A} \mathbf{r}^2 + \mathbf{r}_3 \times \mathbf{A} \mathbf{r}^3. \quad (3)$$

3. Sakykime \mathbb{R}^3 duota ortonormuota bazė $\mathbf{i}, \mathbf{j}, \mathbf{k}$. Kadangi šiuo atveju duali bazė sutampa su baze $\mathbf{i}, \mathbf{j}, \mathbf{k}$, tai $\operatorname{div} A$ ir $\operatorname{rot} A$ įgauna paprastesnes išraiškas. Pagal (1) formulę sudarome operatoriaus A matricą

$$\begin{pmatrix} a_{11} = \mathbf{i} \mathbf{A} \mathbf{i} & a_{12} = \mathbf{i} \mathbf{A} \mathbf{j} & a_{13} = \mathbf{i} \mathbf{A} \mathbf{k} \\ a_{21} = \mathbf{j} \mathbf{A} \mathbf{i} & a_{22} = \mathbf{j} \mathbf{A} \mathbf{j} & a_{23} = \mathbf{j} \mathbf{A} \mathbf{k} \\ a_{31} = \mathbf{k} \mathbf{A} \mathbf{i} & a_{32} = \mathbf{k} \mathbf{A} \mathbf{j} & a_{33} = \mathbf{k} \mathbf{A} \mathbf{k} \end{pmatrix}.$$

Tada pagal(2) formulę

$$\operatorname{div} A = a_{11} + a_{22} + a_{33} = \mathbf{i} \mathbf{A} \mathbf{i} + \mathbf{j} \mathbf{A} \mathbf{j} + \mathbf{k} \mathbf{A} \mathbf{k}.$$

Pagal (3) formulę:

$$\operatorname{rot} A = \mathbf{i} \times A\mathbf{i} + \mathbf{j} \times A\mathbf{j} + \mathbf{k} \times A\mathbf{k}.$$

Kadangi

$$A\mathbf{i} = a_{11}\mathbf{i} + a_{21}\mathbf{j} + a_{31}\mathbf{k},$$

tai

$$\mathbf{i} \times A\mathbf{i} = \mathbf{i} \times (a_{11}\mathbf{i} + a_{21}\mathbf{j} + a_{31}\mathbf{k}) = a_{11}\mathbf{i} \times \mathbf{i} + a_{21}\mathbf{i} \times \mathbf{j} + a_{31}\mathbf{i} \times \mathbf{k} = a_{21}\mathbf{k} - a_{31}\mathbf{j}.$$

Analogiškai

$$\begin{aligned} \mathbf{j} \times A\mathbf{j} &= a_{32}\mathbf{i} - a_{12}\mathbf{k}, \\ \mathbf{k} \times A\mathbf{k} &= a_{13}\mathbf{j} - a_{23}\mathbf{i}. \end{aligned}$$

Pagaliau

$$\operatorname{rot} A = (a_{32} - a_{23})\mathbf{i} + (a_{13} - a_{31})\mathbf{j} + (a_{21} - a_{12})\mathbf{k}.$$

Uždaviniai

1. Operatorius A nusakytas lygybe $A(x; y; z) = (3x + z; x - y; 2y)$. Įrodykite, kad operatorius A tiesinis, raskite šio operatoriaus matricą bazėje $\mathbf{r}_1 = (1; 1; 0)$, $\mathbf{r}_2 = (0; 1; 1)$, $\mathbf{r}_3 = (0; 0; 1)$.
2. Tiesinio operatoriaus A matrica bazėje $\mathbf{r}_1, \mathbf{r}_2, \mathbf{r}_3$ yra tokia:

$$A^* = \begin{pmatrix} -1 & 0 & 1 \\ 1 & -1 & 0 \\ -1 & 2 & -1 \end{pmatrix}.$$

Raskite operatoriaus A matricą bazėje $\mathbf{s}_1 = \mathbf{r}_1 + 2\mathbf{r}_2 + \mathbf{r}_3$, $\mathbf{s}_2 = \mathbf{r}_1 + 3\mathbf{r}_2 + \mathbf{r}_3$, $\mathbf{s}_3 = 2\mathbf{r}_1 + 2\mathbf{r}_2 + \mathbf{r}_3$. Raskite operatoriaus A divergenciją $\operatorname{div} A$ ir rotorių $\operatorname{rot} A$.

3. Tiesinis operatorius A nusakytas formule $A(x; y; z) = (3x + 4y + 6z; 4x + 2y + z; x + y)$. Raskite šio operatoriaus divergenciją $\operatorname{div} A$ ir rotorių $\operatorname{rot} A$.
4. Tiesinis operatorius A nusakytas formule $A(x; y; z) = (-x + 2y - 3z; 4x - 5y - z; -y - z)$. Raskite šio operatoriaus divergenciją $\operatorname{div} A$ ir rotorių $\operatorname{rot} A$.
5. Tiesinio operatoriaus matrica bazėje $\mathbf{i}, \mathbf{j}, \mathbf{k}$ yra

$$A^* = \begin{pmatrix} 1 & 1 & 0 \\ 1 & 1 & 0 \\ 0 & 0 & 1 \end{pmatrix}.$$

Raskite šio operatoriaus matricą bazėje $\mathbf{r}_1 = (1; 1; 1)$, $\mathbf{r}_2 = (1; 0; -1)$, $\mathbf{r}_3 = (-1; 0; 0)$. Kam lygi operatoriaus divergencija $\operatorname{div} A$ ir rotorius $\operatorname{rot} A$?

8.4 Skaliarinis ir vektorinis laukai

Sakykime Ω yra plokštumos arba erdvės sritis.

Sakome, kad srityje yra nusakytas skaliarinis laukas, jeigu kiekvienam srities Ω taškui M pagal koki nors dėsni priskiriamas skaičius $u(M)$. Kitaip sakant, skaliarinis laukas yra funkcija $u : \Omega \rightarrow \mathbb{R}$.

Vektorinis laukas apibrėžiamas analogiškai.

Jei kiekvienam srities Ω taškui M priskiriamas vektorius $\mathbf{p}(M)$, tai sakoma, kad srityje Ω yra apibrėžtas vektorinis laukas \mathbf{p} . Kitaip sakant, vektorinis laukas yra funkcija $\mathbf{p} : \Omega \rightarrow \mathbb{R}^3$.

Uždaviniai

1. Kiekvienam rutulio $x^2 + y^2 + z^2 \leq a^2$ (čia a – teigiama konstanta) taškui $M(x; y; z)$ apskaičiuotas atstumas nuo M iki ašies Oz . Pažymėkime šį atstumą u . Parodykite, kad u yra skaliarinis laukas ir raskite jo išraišką.
2. Skaliarinis laukas u apibrėžtas lygybe $u(x, y, z) = \sqrt{x^2 + y^2 + (z + 8)^2} + \sqrt{x^2 + y^2 + (z - 8)^2}$. Raskite $\max u$ srityje $\Omega = \{(x, y, z) : x^2 + y^2 + z^2 \leq 36\}$.
3. Bet kurią erdvės tašką $M(x; y; z)$ veikia centrinė jėga \mathbf{F} , kuri nukreipta iš M į tašką $O(0; 0; 0)$. Šios jėgos dydis atvirkščiai proporcingas atstumo nuo taško M iki O kubui. Raskite vektorinio lauko \mathbf{F} išraišką bazėje $\mathbf{i}, \mathbf{j}, \mathbf{k}$.
4. Skystis, užpildantis visą erdvę, sukasi apie ašį Oz prieš laikrodžio rodyklę pastoviu kampiniu greičiu ω . Sakykim $\mathbf{v} = \mathbf{v}(x, y, z)$ judančio erdvės taško $M(x, y, z)$ greičio vektorius. Raskite vektorinio lauko \mathbf{v} išraišką bazėje $\mathbf{i}, \mathbf{j}, \mathbf{k}$.
5. Bet kurią erdvės tašką $M(x; y; z)$ veikia jėga \mathbf{F} nukreipta statmenai į ašį Oz . Jėgos \mathbf{F} dydis atvirkščiai proporcingas atstumui nuo taško $M(x; y; z)$ iki plokštumos xOy . Raskite vektorinio lauko \mathbf{F} išraišką bazėje $\mathbf{i}, \mathbf{j}, \mathbf{k}$.

8.5 Skaliarinio lauko gradijentas

Sakykime $u : \Omega \rightarrow \mathbb{R}$ yra skaliarinis laukas.

1 apibrėžimas. Skaliarinis laukas vadinamas diferencijuojamu taške M , jeigu visiems M' iš kokios nors taško M aplinkos lauko pokytį Δu taške M galima išreikšti lygybe

$$\Delta u = \mathbf{g} \cdot \Delta \mathbf{r} + o(\varrho), \quad (1)$$

čia:

$$\Delta u = u(M') - u(M),$$

$$\Delta \mathbf{r} = \overrightarrow{MM'},$$

\mathbf{g} – vektorius, priklausantis, gal būt, nuo M , bet nepriklausantis nuo M' ,

$$\varrho = \varrho(MM') = |\Delta \mathbf{r}| - \text{atstumas tarp } M \text{ ir } M'.$$

Skaliarinis laukas vadinamas diferencijuojamu srityje Ω , jei jis diferencijuojamas kiekviename srities Ω taške.

2 apibrėžimas. Jeigu skaliarinis laukas u diferencijuojamas taške M , tai vektorius \mathbf{g} iš (1) lygybės vadinamas šio lauko gradijentu taške M . Gradijentas žymimas $\text{grad} u$.

Dydis $\text{grad} u \Delta \mathbf{r}$ paprastai vadinamas skaliarinio lauko diferencialu ir žymimas du .

Kai $|\Delta \mathbf{r}|$ mažas $\Delta \mathbf{r}$ paprastai žymimas $d\mathbf{r}$.

Po tokių pastabų (1) formulė įgauna pavidalą

$$\Delta u = du + o(\varrho) = \text{grad} u \cdot d\mathbf{r} + o(\varrho) \quad (1^*)$$

Jei skaliarinis laukas u turi gradijentą kiekviename srities Ω taške, tai $\text{grad} u$ jau yra vektorinis laukas apibrėžtas srityje Ω . Kadangi gradijento apibrėžime nėra nieko apie koordinatinių sistemą, tai $\text{grad} u$ yra invariantas.

Jei u ir v yra du diferencijuojami skaliariniai laukai, tai nesunku įrodyti tokias lygybes:

$$\text{grad}(u + v) = \text{grad} u + \text{grad} v,$$

$$\text{grad}(uv) = u \text{grad} v + v \text{grad} u,$$

$$\text{grad}(u/v) = \frac{v \text{grad} u - u \text{grad} v}{v^2} \quad (\text{jei } v \neq 0).$$

3 apibrėžimas. Tegul $M \in \Omega$, o \mathbf{e} - vienetinis vektorius nurodantis kryptį taške M . Imkime Ω srities tašką M' , kad vektorius $\overrightarrow{MM'}$ būtų lygiagretus vektoriui \mathbf{e} . Tegul, kaip ir anksčiau, $\varrho = \varrho(MM')$. Jeigu egzistuoja riba

$$\lim_{\varrho \rightarrow 0} \frac{\Delta u}{\varrho},$$

tai ta riba vadinama skaliarinio lauko u išvestine taške M vektoriaus \mathbf{e} kryptimi ir žymima simboliu $\frac{\partial u}{\partial \mathbf{e}}$.

Teiginys. Jeigu u diferencijuojamas taške M , tai lauko u išvestinė $\frac{\partial u}{\partial \mathbf{e}}$ egzistuoja taške M bet kuria kryptimi \mathbf{e} ir

$$\frac{\partial u}{\partial \mathbf{e}} = \text{grad} u \cdot \mathbf{e},$$

jeigu \mathbf{e} vienetinis vektorius.

► Tegul \mathbf{e} fiksuotas, o $\overrightarrow{MM'} = \Delta \mathbf{r}$ kolinearūs vektoriui \mathbf{e} . Tada $\Delta \mathbf{r} = \varrho \mathbf{e}$. Pagal (1*) formulę turime:

$$\Delta u = (\text{grad} u) \varrho \mathbf{e} + o(\varrho) = (\text{grad} u \cdot \mathbf{e}) \varrho + o(\varrho).$$

Todėl

$$\frac{\Delta u}{\varrho} = \text{grad} u \cdot \mathbf{e} + \frac{o(\varrho)}{\varrho}.$$

Perėję prie ribos, kai $\varrho \rightarrow 0$, gauname

$$\lim_{\varrho \rightarrow 0} \frac{\Delta u}{\varrho} = \text{grad} u \cdot \mathbf{e} + \lim_{\varrho \rightarrow 0} \frac{o(\varrho)}{\varrho} = \text{grad} u \cdot \mathbf{e}.$$

Taigi $\frac{\partial u}{\partial \mathbf{e}} = \text{grad} u \cdot \mathbf{e}$ pagal 3 apibrėžimą. ◀

Kai erdvėje parinkta ortonormuota bazė $\mathbf{i}, \mathbf{j}, \mathbf{k}$, $\text{grad} u$ išraiška gana paprasta. Rasime ją. Kadangi pagal Gibso formules

$$\text{grad} u = \mathbf{i}(\text{grad} u \cdot \mathbf{i}) + \mathbf{j}(\text{grad} u \cdot \mathbf{j}) + \mathbf{k}(\text{grad} u \cdot \mathbf{k}),$$

ir

$$\frac{\partial u}{\partial \mathbf{i}} = \frac{\partial u}{\partial x}, \quad \frac{\partial u}{\partial \mathbf{j}} = \frac{\partial u}{\partial y}, \quad \frac{\partial u}{\partial \mathbf{k}} = \frac{\partial u}{\partial z},$$

tai

$$\text{grad} u = \mathbf{i} \left(\frac{\partial u}{\partial \mathbf{i}} \right) + \mathbf{j} \left(\frac{\partial u}{\partial \mathbf{j}} \right) + \mathbf{k} \left(\frac{\partial u}{\partial \mathbf{k}} \right) = \mathbf{i} \frac{\partial u}{\partial x} + \mathbf{j} \frac{\partial u}{\partial y} + \mathbf{k} \frac{\partial u}{\partial z}.$$

Uždaviniai

1. Skaliarinio lauko

$$u = \frac{x}{x^2 + y^2 + z^2}$$

taškuose $A(1; 2; 2)$ ir $B(-3; 1; 0)$ nubrėžti šio lauko gradijantai. Kokį kampą jie sudaro?

2. Kokiuose erdvės taškuose skaliarinio lauko $u = x^3 + y^3 + z^3 - 3xyz$ gradijentas lygiagretus ašiai Oz ?
3. Skaliarinis laukas aprašytas lygybe

$$u = \frac{z}{\sqrt{x^2 + y^2 + z^2}}.$$

Raskite $\sup |\text{grad} u|$, kai $z \in (1, 2)$.

4. Raskite lauko

$$u = \frac{1}{\sqrt{x^2 + y^2 + z^2}}$$

išvestinę vektoriaus $\mathbf{l} = (1; 2; 3)$ kryptimi.

5. Raskite lauko $u = \frac{x^2}{a^2} + \frac{y^2}{b^2} + \frac{z^2}{c^2}$ išvestinę taške $M(x; y; z)$ vektoriaus $\mathbf{r} = x\mathbf{i} + y\mathbf{j} + z\mathbf{k}$ kryptimi. Čia a, b, c yra teigiamos konstantos.

8.6 Vektorinio lauko divergencija ir rotorius

Sakykime $\mathbf{p} : \Omega \rightarrow \mathbb{R}^3$ yra vektorinis laukas.

1 apibrėžimas. Vektorinis laukas \mathbf{p} vadinamas diferencijuojamu taške M ($M \in \Omega$), jeigu visiems M' iš kokios nors taško M aplinkos

$$\Delta \mathbf{p} = A \Delta \mathbf{r} + o(|\Delta \mathbf{r}|), \quad (1)$$

kur

$$\begin{aligned} \Delta \mathbf{p} &= \mathbf{p}(M') - \mathbf{p}(M), \\ \Delta \mathbf{r} &= \overrightarrow{MM'}, \end{aligned}$$

o A yra tiesinis operatorius nepriklausantis nuo $\Delta \mathbf{r}$ (t. y. nuo taško M').

Vektorinis laukas vadinamas diferencijuojamu srityje Ω jeigu jis diferencijuojamas kiekviename srities Ω taške.

2 apibrėžimas. Sakykime $M \in \Omega$, o \mathbf{e} yra vienetinis vektorius. Imkime $M' \in \Omega$ taip, kad $\overrightarrow{MM'} \parallel \mathbf{e}$. Pažymėkime $\varrho = \varrho(MM') = |\Delta \mathbf{r}|$. Jeigu egzistuoja riba

$$\lim_{\varrho \rightarrow 0} \frac{\Delta \mathbf{p}}{\varrho},$$

tai ji vadinama lauko \mathbf{p} išvestine taške M kryptimi \mathbf{e} ir žymima simboliu $\frac{\partial \mathbf{p}}{\partial \mathbf{e}}$.

Teiginys. Jeigu laukas \mathbf{p} yra diferencijuojamas srities Ω taške M , tai lauko \mathbf{p} išvestinė $\frac{\partial \mathbf{p}}{\partial \mathbf{e}}$ tame taške bet kuria kryptimi \mathbf{e} egzistuoja ir:

$$\frac{\partial \mathbf{p}}{\partial \mathbf{e}} = A \mathbf{e}, \quad (2)$$

kur A - tiesinis operatorius iš (1) lygybės, o \mathbf{e} - vienetinis vektorius.



Sakykime \mathbf{e} - fiksuotas vektorius, o M' pasirinktas taip, kad $\overrightarrow{MM'} \parallel \mathbf{e}$. Tada

$$\begin{aligned} \Delta \mathbf{r} &= \varrho \mathbf{e}, \\ |\Delta \mathbf{r}| &= \varrho. \end{aligned}$$

Išstatę šiuos dydžius į (1) formulę, gauname

$$\Delta \mathbf{p} = \varrho A \mathbf{e} + o(\varrho).$$

Arba

$$\frac{\Delta \mathbf{p}}{\varrho} = A \mathbf{e} + \frac{o(\varrho)}{\varrho}.$$

Perėję šioje lygybėje prie ribos, kai $\varrho \rightarrow 0$, gauname:

$$\lim_{\varrho \rightarrow 0} \frac{\Delta \mathbf{p}}{\varrho} = A \mathbf{e} + \lim_{\varrho \rightarrow 0} \frac{o(\varrho)}{\varrho} = A \mathbf{e}.$$

Taigi pagal 2 apibrėžimą

$$\frac{\partial \mathbf{p}}{\partial \mathbf{e}} = A \mathbf{e}.$$



Sakykime erdvėje pasirinkta ortonormuota bazė $\mathbf{i}, \mathbf{j}, \mathbf{k}$. Rasime vektorinį lauką atitinkančio diferencialinio operatoriaus A matricą šioje bazėje.

Tegul $\mathbf{p} = P\mathbf{i} + Q\mathbf{j} + R\mathbf{k}$. Pagal (2) formulę

$$\frac{\partial \mathbf{p}}{\partial \mathbf{i}} = A\mathbf{i}, \quad \frac{\partial \mathbf{p}}{\partial \mathbf{j}} = A\mathbf{j}, \quad \frac{\partial \mathbf{p}}{\partial \mathbf{k}} = A\mathbf{k}.$$

Antra vertus

$$\frac{\partial \mathbf{p}}{\partial x} = \frac{\partial \mathbf{p}}{\partial \mathbf{i}}, \quad \frac{\partial \mathbf{p}}{\partial y} = \frac{\partial \mathbf{p}}{\partial \mathbf{j}}, \quad \frac{\partial \mathbf{p}}{\partial z} = \frac{\partial \mathbf{p}}{\partial \mathbf{k}}.$$

Iš šių formulių galima rasti operatoriaus A matricą (žr. 8.3 skyrelio 3 dalį):

$$a_{11} = \mathbf{i}A\mathbf{i} = \mathbf{i} \frac{\partial \mathbf{p}}{\partial x} = \mathbf{i} \left(\frac{\partial(P\mathbf{i} + Q\mathbf{j} + R\mathbf{k})}{\partial x} \right) = \frac{\partial P}{\partial x} \mathbf{i} \cdot \mathbf{i} + \frac{\partial Q}{\partial x} \mathbf{i} \cdot \mathbf{j} + \frac{\partial R}{\partial x} \mathbf{i} \cdot \mathbf{k} = \frac{\partial P}{\partial x},$$

$$a_{12} = \mathbf{i}A\mathbf{j} = \mathbf{i} \frac{\partial \mathbf{p}}{\partial y} = \left(\frac{\partial(P\mathbf{i} + Q\mathbf{j} + R\mathbf{k})}{\partial y} \right) = \frac{\partial P}{\partial y} \mathbf{i} \cdot \mathbf{i} + \frac{\partial Q}{\partial y} \mathbf{i} \cdot \mathbf{j} + \frac{\partial R}{\partial y} \mathbf{i} \cdot \mathbf{k} = \frac{\partial P}{\partial y},$$

.....

$$\hat{A} = \begin{pmatrix} \frac{\partial P}{\partial x} & \frac{\partial P}{\partial y} & \frac{\partial P}{\partial z} \\ \frac{\partial Q}{\partial x} & \frac{\partial Q}{\partial y} & \frac{\partial Q}{\partial z} \\ \frac{\partial R}{\partial x} & \frac{\partial R}{\partial y} & \frac{\partial R}{\partial z} \end{pmatrix}.$$

Matome kad operatorius A kinta einant iš vieno srities taško į kitą. Taigi jis priklauso nuo taško M , bet žinoma nepriklauso nuo $\Delta \mathbf{r}$.

3 apibrėžimas. Lauko \mathbf{p} divergencija ir rotoriumi srities Ω taške M vadiname tiesinio operatoriaus A iš (1) lygybės divergenciją ir rotorių. *T. y.*

$$\operatorname{div} \mathbf{p} = \operatorname{div} A, \quad \operatorname{rot} \mathbf{p} = \operatorname{rot} A.$$

Kai erdvėje yra ortonormuota bazė $\mathbf{i}, \mathbf{j}, \mathbf{k}$, iš gautos operatoriaus matricos \hat{A} ir 8.3 skyrelio pabaigoje esančių formulių išplaukia lygybės:

$$\operatorname{div} \mathbf{p} = \frac{\partial P}{\partial x} + \frac{\partial Q}{\partial y} + \frac{\partial R}{\partial z},$$

$$\operatorname{rot} \mathbf{p} = \left(\frac{\partial R}{\partial y} - \frac{\partial Q}{\partial z} \right) \mathbf{i} + \left(\frac{\partial P}{\partial z} - \frac{\partial R}{\partial x} \right) \mathbf{j} + \left(\frac{\partial Q}{\partial x} - \frac{\partial P}{\partial y} \right) \mathbf{k} = \begin{vmatrix} \mathbf{i} & \mathbf{j} & \mathbf{k} \\ \frac{\partial}{\partial x} & \frac{\partial}{\partial y} & \frac{\partial}{\partial z} \\ P & Q & R \end{vmatrix}.$$

Vektorinio lauko \mathbf{p} , diferencijuojamo kiekviename srities Ω taške, divergencija $\operatorname{div} \mathbf{p}$ yra naujas skaliarinis laukas, o $\operatorname{rot} \mathbf{p}$ – naujas vektorinis laukas.

Turėdami operatoriaus A matricą ortonormuotoje bazėje $\mathbf{i}, \mathbf{j}, \mathbf{k}$ nesunkiai galime surasti ir vektorinio lauko $\mathbf{p} = P\mathbf{i} + Q\mathbf{j} + R\mathbf{k}$ išvestinę bet kuria kryptimi $\mathbf{e} = \mathbf{i} \cos \alpha + \mathbf{j} \cos \beta + \mathbf{k} \cos \gamma$. Būtent:

$$\begin{aligned} \frac{\partial \mathbf{p}}{\partial \mathbf{e}} &= A\mathbf{e} = A(\mathbf{i} \cos \alpha + \mathbf{j} \cos \beta + \mathbf{k} \cos \gamma) = \cos \alpha A\mathbf{i} + \cos \beta A\mathbf{j} + \cos \gamma A\mathbf{k} \\ &= \cos \alpha \frac{\partial \mathbf{p}}{\partial x} + \cos \beta \frac{\partial \mathbf{p}}{\partial y} + \cos \gamma \frac{\partial \mathbf{p}}{\partial z} \\ &= \cos \alpha \left(\frac{\partial P}{\partial x} \mathbf{i} + \frac{\partial Q}{\partial x} \mathbf{j} + \frac{\partial R}{\partial x} \mathbf{k} \right) + \cos \beta \left(\frac{\partial P}{\partial y} \mathbf{i} + \frac{\partial Q}{\partial y} \mathbf{j} + \frac{\partial R}{\partial y} \mathbf{k} \right) + \cos \gamma \left(\frac{\partial P}{\partial z} \mathbf{i} + \frac{\partial Q}{\partial z} \mathbf{j} + \frac{\partial R}{\partial z} \mathbf{k} \right) \\ &= \begin{pmatrix} \frac{\partial P}{\partial x} \mathbf{i} & \frac{\partial P}{\partial y} \mathbf{i} & \frac{\partial P}{\partial z} \mathbf{i} \\ \frac{\partial Q}{\partial x} \mathbf{j} & \frac{\partial Q}{\partial y} \mathbf{j} & \frac{\partial Q}{\partial z} \mathbf{j} \\ \frac{\partial R}{\partial x} \mathbf{k} & \frac{\partial R}{\partial y} \mathbf{k} & \frac{\partial R}{\partial z} \mathbf{k} \end{pmatrix} \begin{pmatrix} \cos \alpha \\ \cos \beta \\ \cos \gamma \end{pmatrix}. \end{aligned}$$

Uždaviniai

1. Raskite vektorinio lauko $\mathbf{p} = (x^2 + z^2)\mathbf{i} + (z^2 + x^2)\mathbf{j} + (x^2 + y^2)\mathbf{k}$ divergenciją ir rotorių taške $M(3; 4; 5)$.
2. Raskite vektorinio lauko $\mathbf{p} = \frac{y}{z}\mathbf{i} + \frac{z}{x}\mathbf{j} + \frac{x}{y}\mathbf{k}$ rotorių ir divergenciją taške $M(1; 2; -2)$.
3. Vektorinis laukas \mathbf{p} bazėje $\mathbf{r}_1 = (0; 1; 1)$, $\mathbf{r}_2 = (1; 0; 1)$, $\mathbf{r}_3 = (1; 1; 0)$ aprašytas lygtimi $\mathbf{p} = xyz\mathbf{r}_1 + (x^2 - y^2)\mathbf{r}_2$. Raskite šio vektorinio lauko diferencialinio operatoriaus matricas bazėje $\mathbf{r}_1, \mathbf{r}_2, \mathbf{r}_3$ ir bazėje $\mathbf{i}, \mathbf{j}, \mathbf{k}$.
4. Raskite vektorinio lauko

$$\mathbf{p} = \frac{-ix + jy + kz}{\sqrt{x^2 + y^2}}$$

išvestinę taške $M(3; 4; 5)$ kryptimi $\mathbf{l} = (1; 1; 1)$.

5. Vektorinis laukas \mathbf{p} bazėje $\mathbf{r}_1 = (0; 0; 1)$, $\mathbf{r}_2 = (1; 0; 1)$, $\mathbf{r}_3 = (1; 1; 0)$ aprašomas lygybe

$$\mathbf{p} = (y^2 + z^2)\mathbf{r}_1 + (z^2 + x^2)\mathbf{r}_2 + (x^2 + y^2)\mathbf{r}_3.$$

Kokiuose taškuose šio lauko rotorius lygiagretus vektoriui $\mathbf{l} = (1; 2; 3)$?

8.7 Kartotinės lauko teorijos operacijos

Sakykime Ω yra erdvės \mathbb{R}^3 sritis. Tarkime šioje srityje apibrėžtas skaliarinis laukas $u : \Omega \rightarrow \mathbb{R}$ ir vektorinis laukas $\mathbf{p} : \Omega \rightarrow \mathbb{R}^3$. Tarkime, kad u yra du kartus tolydžiai diferencijuojamas, o \mathbf{p} koordinatinės funkcijos irgi du kartus tolydžiai diferencijuojamos.

Šiomis sąlygomis $\text{grad } u$ yra srityje Ω diferencijuojamas vektorinis laukas, $\text{div } \mathbf{p}$ - diferencijuojamas skaliarinis laukas, $\text{rot } \mathbf{p}$ - diferencijuojamas vektorinis laukas. Galimos tokios kartotinės operacijos:

$$\text{rot grad } u, \quad \text{div grad } u, \quad \text{grad div } \mathbf{p}, \quad \text{div rot } \mathbf{p}, \quad \text{rot rot } \mathbf{p}.$$

$$\text{I. rot grad } u = 0. \tag{1}$$



Sakykime Ω srityje yra ortonormuota bazė $\mathbf{i}, \mathbf{j}, \mathbf{k}$. Tada (žr. 8.5 skyrelį)

$$\text{grad } u = \frac{\partial u}{\partial x}\mathbf{i} + \frac{\partial u}{\partial y}\mathbf{j} + \frac{\partial u}{\partial z}\mathbf{k}.$$

Pagal 8.6 skyrelyje gautą formulę

$$\begin{aligned} \text{rot grad } u &= \left(\frac{\partial}{\partial y} \left(\frac{\partial u}{\partial z} \right) - \frac{\partial}{\partial z} \left(\frac{\partial u}{\partial y} \right) \right) \mathbf{i} + \left(\frac{\partial}{\partial z} \left(\frac{\partial u}{\partial x} \right) - \frac{\partial}{\partial x} \left(\frac{\partial u}{\partial z} \right) \right) \mathbf{j} + \left(\frac{\partial}{\partial x} \left(\frac{\partial u}{\partial y} \right) - \frac{\partial}{\partial y} \left(\frac{\partial u}{\partial x} \right) \right) \mathbf{k} \\ &= \left(\frac{\partial^2 u}{\partial y \partial z} - \frac{\partial^2 u}{\partial z \partial y} \right) \mathbf{i} + \left(\frac{\partial^2 u}{\partial z \partial x} - \frac{\partial^2 u}{\partial x \partial z} \right) \mathbf{j} + \left(\frac{\partial^2 u}{\partial x \partial y} - \frac{\partial^2 u}{\partial y \partial x} \right) \mathbf{k} = 0. \end{aligned}$$

Kadangi reiškinys $\text{rot grad } u$ yra invariantas, tai ir visose erdvės \mathbb{R}^3 bazėse teisinga (1) lygybė. ◀

$$\text{II. div rot } \mathbf{p} = 0.$$



Sakykime Ω srityje vėl gi yra stačiakampė Dekarto koordinatinių sistema nusakyta ortonormuota baze $\mathbf{i}, \mathbf{j}, \mathbf{k}$. Tegul

$$\mathbf{p} = P\mathbf{i} + Q\mathbf{j} + R\mathbf{k}.$$

Pagal 8.6 skyrelio formules:

$$\text{rot } \mathbf{p} = \left(\frac{\partial R}{\partial y} - \frac{\partial Q}{\partial z} \right) \mathbf{i} + \left(\frac{\partial P}{\partial z} - \frac{\partial R}{\partial x} \right) \mathbf{j} + \left(\frac{\partial Q}{\partial x} - \frac{\partial P}{\partial y} \right) \mathbf{k},$$

$$\begin{aligned}\operatorname{div} \operatorname{rot} \mathbf{p} &= \frac{\partial}{\partial x} \left(\frac{\partial R}{\partial y} - \frac{\partial Q}{\partial z} \right) + \frac{\partial}{\partial y} \left(\frac{\partial P}{\partial z} - \frac{\partial R}{\partial x} \right) + \frac{\partial}{\partial z} \left(\frac{\partial Q}{\partial x} - \frac{\partial P}{\partial y} \right) \\ &= \frac{\partial^2 R}{\partial x \partial y} - \frac{\partial^2 Q}{\partial x \partial z} + \frac{\partial^2 P}{\partial y \partial z} - \frac{\partial^2 R}{\partial y \partial x} + \frac{\partial^2 Q}{\partial z \partial x} - \frac{\partial^2 P}{\partial z \partial y} = 0.\end{aligned}$$

Kadangi reiškinys $\operatorname{div} \operatorname{rot} \mathbf{p}$ yra invariantas, tai ir kitose erdvės \mathbb{R}^3 bazėse $\operatorname{div} \operatorname{rot} \mathbf{p} = 0$. ◀

III. Operacija $\operatorname{div} \operatorname{grad} u$ vadinama skaliarinio lauko u Laplaso * operatoriumi ir žymima $\Delta_L u$. T. y.

$$\Delta_L u = \operatorname{div} \operatorname{grad} u.$$

Ortonormuotoje erdvės \mathbb{R}^3 bazėje $\mathbf{i}, \mathbf{j}, \mathbf{k}$ turime

$$\Delta_L u = \frac{\partial^2 u}{\partial x^2} + \frac{\partial^2 u}{\partial y^2} + \frac{\partial^2 u}{\partial z^2}.$$

Iš tiesų

$$\begin{aligned}\Delta_L u &= \operatorname{div}(\operatorname{grad} u) = \operatorname{div} \left(\frac{\partial u}{\partial x} \mathbf{i} + \frac{\partial u}{\partial y} \mathbf{j} + \frac{\partial u}{\partial z} \mathbf{k} \right) \\ &= \frac{\partial}{\partial x} \left(\frac{\partial u}{\partial x} \right) + \frac{\partial}{\partial y} \left(\frac{\partial u}{\partial y} \right) + \frac{\partial}{\partial z} \left(\frac{\partial u}{\partial z} \right) \\ &= \frac{\partial^2 u}{\partial x^2} + \frac{\partial^2 u}{\partial y^2} + \frac{\partial^2 u}{\partial z^2}.\end{aligned}$$

IV. Likusias dvi kartotines operacijas sieja lygybė

$$\operatorname{rot} \operatorname{rot} \mathbf{p} = \operatorname{grad} \operatorname{div} \mathbf{p} - \Delta_L \mathbf{p}.$$

Joje vektoriniam laukui $\mathbf{p} = P\mathbf{i} + Q\mathbf{j} + R\mathbf{k}$

$$\Delta_L \mathbf{p} = \Delta_L P\mathbf{i} + \Delta_L Q\mathbf{j} + \Delta_L R\mathbf{k}.$$

Uždaviniai

1. Raskite skaliarinio lauko $u = e^{xyz}$ Laplaso operatorių taške $M(0; 1; 1)$.
2. Vektorinis laukas aprašomas lygybe $\mathbf{p} = x\mathbf{i} + y\mathbf{j} + 2z\mathbf{k}$. Raskite $\operatorname{rot}(\operatorname{rot} \mathbf{p})$.
3. Vektorinis laukas aprašomas lygybe $\mathbf{p} = x^2\mathbf{i} + y^2\mathbf{j} + z^2\mathbf{k}$. Raskite $\operatorname{grad}(\operatorname{div} \mathbf{p})$.
4. Skystis užpildantis ertvę sukasi apie vektorių $\mathbf{e} = \left(\frac{1}{\sqrt{3}}; \frac{1}{\sqrt{3}}; \frac{1}{\sqrt{3}} \right)$ pastoviu kampiniu greičiu ω . Pažymėkime $\mathbf{v} = \mathbf{v}(x; y; z)$ greičio vektorių taške $M(x, y, z)$. Raskite $\operatorname{div} \mathbf{v}$, $\operatorname{rot} \mathbf{v}$, $\operatorname{rot} \operatorname{rot} \mathbf{v}$, $\operatorname{grad} \operatorname{div} \mathbf{v}$.
5. Sakykim u ir v yra skaliariniai laukai apibrėžti srityje Ω . Raskite formules $\operatorname{div}(u \operatorname{grad} u)$ ir $\operatorname{div}(u \operatorname{grad} v)$ skaičiavimui.

8.8 Kreivinės koordinatės

Sakykime Ω yra erdvės \mathbb{R}^3 sritis, o x, y, z tos erdvės Dekarto koordinatės. Sakykim $\tilde{\Omega}$ yra erdvės $\tilde{\mathbb{R}}^3$ sritis, o x^1, x^2, x^3 tos erdvės Dekarto koordinatės. Sakykime

$$x = x(x^1; x^2; x^3), \quad y = y(x^1; x^2; x^3), \quad z = z(x^1; x^2; x^3) \quad (1)$$

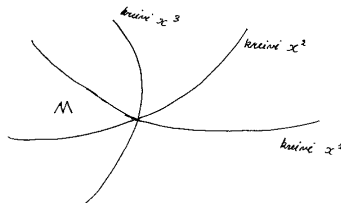
abipus vienareikšmis tolydus atvaizdis $\tilde{\Omega} \rightarrow \Omega$.

* P. S. Laplasas (1749–1827) – prancūzų astronomas, matematikas, fizikas.

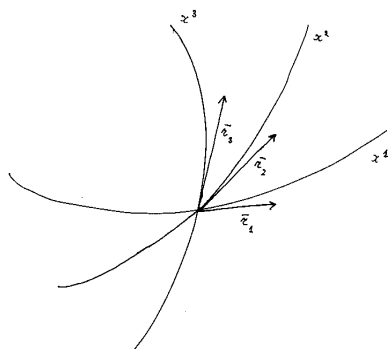
Šiuo atvaizdžiu srityje Ω įvedamos naujos koordinatės. Šias naujas koordinates vadiname kreivinėmis. Kodėl toks pavadinimas? Koordinatės, nes kiekvienam Ω srities taškui $M(x; y; z)$ galima surasti vienintelę trejetą $(x^1; x^2; x^3)$ iš (1) lygybių. Kreivinės, nes fiksuos dvi iš koordinatinių x^1, x^2, x^3 (tegu, pavyzdžiui, $x^2 = a, x^3 = b$) o trečiai leidžiant kisti, srityje Ω gaunama kreivė x^1 , kurios lygtys

$$x = x(x^1; a; b), \quad y = y(x^1; a; b), \quad z = z(x^1; a; b).$$

Per kiekvieną srities Ω tašką M eina trys koordinatinės kreivės x^1, x^2 ir x^3 .



Taške M galime sudaryti bazę, kuri siejasi su šiomis kreivėmis. Tegul \mathbf{r}_1 yra kreivės x^1 liestinės vektorius taške M , \mathbf{r}_2 – kreivės x^2 liestinės vektorius taške M , \mathbf{r}_3 – kreivės x^3 liestinės vektorius taške M .



Aišku kad

$$\begin{aligned} \mathbf{r}_1 &= \left(\frac{\partial x}{\partial x^1}, \frac{\partial y}{\partial x^1}, \frac{\partial z}{\partial x^1} \right), \\ \mathbf{r}_2 &= \left(\frac{\partial x}{\partial x^2}, \frac{\partial y}{\partial x^2}, \frac{\partial z}{\partial x^2} \right), \\ \mathbf{r}_3 &= \left(\frac{\partial x}{\partial x^3}, \frac{\partial y}{\partial x^3}, \frac{\partial z}{\partial x^3} \right). \end{aligned} \quad (2)$$

Vektoriai $\mathbf{r}_1, \mathbf{r}_2, \mathbf{r}_3$ sudaro bazę, kai

$$[\mathbf{r}_1 \mathbf{r}_2 \mathbf{r}_3] = \begin{vmatrix} \frac{\partial x}{\partial x^1} & \frac{\partial y}{\partial x^1} & \frac{\partial z}{\partial x^1} \\ \frac{\partial x}{\partial x^2} & \frac{\partial y}{\partial x^2} & \frac{\partial z}{\partial x^2} \\ \frac{\partial x}{\partial x^3} & \frac{\partial y}{\partial x^3} & \frac{\partial z}{\partial x^3} \end{vmatrix} = \frac{D(x, y, z)}{D(x^1, x^2, x^3)} \neq 0.$$

Sudarius bazę $\mathbf{r}_1, \mathbf{r}_2, \mathbf{r}_3$, standartiniu būdu galima rasti dualią bazę $\mathbf{r}^1, \mathbf{r}^2, \mathbf{r}^3$. Pakanka prisiminti 8.1 skyrelyje esančias formules. Būtent

$$\mathbf{r}^1 = \frac{\mathbf{r}_2 \times \mathbf{r}_3}{[\mathbf{r}_1 \mathbf{r}_2 \mathbf{r}_3]}, \quad \mathbf{r}^2 = \frac{\mathbf{r}_3 \times \mathbf{r}_1}{[\mathbf{r}_1 \mathbf{r}_2 \mathbf{r}_3]}, \quad \mathbf{r}^3 = \frac{\mathbf{r}_1 \times \mathbf{r}_2}{[\mathbf{r}_1 \mathbf{r}_2 \mathbf{r}_3]}.$$

Jei bazė $\mathbf{r}_1, \mathbf{r}_2, \mathbf{r}_3$ yra ortogonalinė ir $\mathbf{r}_1, \mathbf{r}_2, \mathbf{r}_3$ sudaro dešininę sistemą, dualią bazę rasti paprasčiau. Tegul

$$|\mathbf{r}_1| = H_1, \quad |\mathbf{r}_2| = H_2, \quad |\mathbf{r}_3| = H_3.$$

Dydžiai H_1, H_2, H_3 vadinasi Lamé koeficientais*.

* G. Lamé (1795–1870) – prancūzų matematikas

Kadangi $\mathbf{r}_1, \mathbf{r}_2, \mathbf{r}_3$ yra ortogonalė dešininė sistema, tai

$$\begin{aligned} [\mathbf{r}_1 \mathbf{r}_2 \mathbf{r}_3] &= H_1 H_2 H_3, \\ \mathbf{r}_2 \times \mathbf{r}_3 &= \frac{H_2 H_3}{H_1} \mathbf{r}_1, \\ \mathbf{r}_3 \times \mathbf{r}_1 &= \frac{H_3 H_1}{H_2} \mathbf{r}_2, \\ \mathbf{r}_1 \times \mathbf{r}_2 &= \frac{H_1 H_2}{H_3} \mathbf{r}_3. \end{aligned}$$

Vadinasi, pagal aukščiau esančias formules

$$\begin{aligned} \mathbf{r}^1 &= \frac{\mathbf{r}_2 \times \mathbf{r}_3}{[\mathbf{r}_1 \mathbf{r}_2 \mathbf{r}_3]} = \frac{H_2 H_3}{H_1 (H_1 H_2 H_3)} \mathbf{r}_1 = \frac{1}{H_1^2} \mathbf{r}_1, \\ \mathbf{r}^2 &= \frac{1}{H_2^2} \mathbf{r}_2, \\ \mathbf{r}^3 &= \frac{1}{H_3^2} \mathbf{r}_3. \end{aligned} \tag{3}$$

Toliau – du pavyzdžiai apie tai, kaip randame $\mathbf{r}_1, \mathbf{r}_2, \mathbf{r}_3$ ir $\mathbf{r}^1, \mathbf{r}^2, \mathbf{r}^3$ cilindrinę ir sferinę koordinačių atveju.

1. Cilindrinė koordinačių sistema.

Ši koordinačių sistema aprašoma lygybėmis

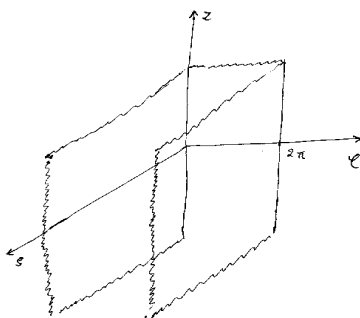
$$x = \varrho \cos \varphi, \quad y = \varrho \sin \varphi, \quad z = z. \tag{4}$$

Vadinasi $x^1 = \varrho, x^2 = \varphi, x^3 = z$.

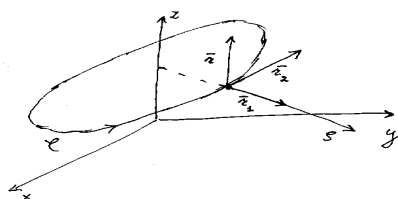
Be to laikoma, kad ϱ, φ ir z kinta intervaluose:

$$0 \leq \varrho < +\infty, \quad 0 \leq \varphi < 2\pi, \quad -\infty < z < +\infty.$$

Šiomis nelygybėmis erdvėje \mathbb{R}^3 nusakoma begalinė sritis $\tilde{\Omega}$, kurios vaizdas toks:



Lygtys (4) perveda šią sritį $\tilde{\Omega}$ į visą erdvę \mathbb{R}^3 . Koordinatinės kreivės ϱ (kreivės x^1) yra spinduliai statmeni Oz ašiai. Koordinatinės kreivės φ (kreivės x^2) yra apskritimai, kurių centrai ašyje Oz . Koordinatinės kreivės z (kreivės x^3) yra tiesės lygiagrečios Oz ašiai.



Rasime vektorius $\mathbf{r}_1, \mathbf{r}_2, \mathbf{r}_3$ ir $\mathbf{r}^1, \mathbf{r}^2, \mathbf{r}^3$ cilindrinėje koordinačių sistemoje. Pagal (2) turime

$$\begin{aligned}\mathbf{r}_1 &= \left(\frac{\partial x}{\partial \varrho}, \frac{\partial y}{\partial \varrho}, \frac{\partial z}{\partial \varrho} \right) = (\cos \varphi, \sin \varphi, 0), \\ \mathbf{r}_2 &= \left(\frac{\partial x}{\partial \varphi}, \frac{\partial y}{\partial \varphi}, \frac{\partial z}{\partial \varphi} \right) = (-\varrho \sin \varphi, \varrho \cos \varphi, 0), \\ \mathbf{r}_3 &= \left(\frac{\partial x}{\partial z}, \frac{\partial y}{\partial z}, \frac{\partial z}{\partial z} \right) = (0, 0, 1).\end{aligned}$$

Vektoriai $\mathbf{r}_1, \mathbf{r}_2, \mathbf{r}_3$ sudaro ortogonalią bazę, nes $\mathbf{r}_1 \mathbf{r}_2 = \mathbf{r}_1 \mathbf{r}_3 = \mathbf{r}_2 \mathbf{r}_3 = 0$. Kadangi $\mathbf{r}_1, \mathbf{r}_2, \mathbf{r}_3$ dar ir dešininė sistema, tai norint rasti $\mathbf{r}^1, \mathbf{r}^2, \mathbf{r}^3$ galime naudoti (3) formules. Turime:

$$\begin{aligned}H_1 &= |\mathbf{r}_1| = \sqrt{\cos^2 \varphi + \sin^2 \varphi} = 1, \\ H_2 &= |\mathbf{r}_2| = \sqrt{\varrho^2 \sin^2 \varphi + \varrho^2 \cos^2 \varphi} = \varrho, \\ H_3 &= |\mathbf{r}_3| = 1.\end{aligned}$$

Todėl pagal (3)

$$\begin{aligned}\mathbf{r}^1 &= \frac{1}{H_1^2} \mathbf{r}_1 = (\cos \varphi, \sin \varphi, 0), \\ \mathbf{r}^2 &= \frac{1}{H_2^2} \mathbf{r}_2 = \left(-\frac{\sin \varphi}{\varrho}, \frac{\cos \varphi}{\varrho}, 0 \right), \\ \mathbf{r}^3 &= \frac{1}{H_3^2} \mathbf{r}_3 = (0, 0, 1).\end{aligned}$$

2. Sferinė koordinačių sistema.

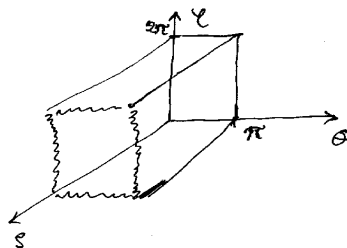
Ši sistema įvedama lygybėmis

$$x = \varrho \sin \theta \cos \varphi, \quad y = \varrho \sin \theta \sin \varphi, \quad z = \varrho \cos \theta. \quad (5)$$

Šiuo atveju $x^1 = \varrho, x^2 = \theta, x^3 = \varphi$. Be to laikoma:

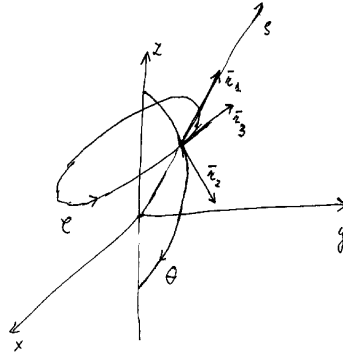
$$0 \leq \varrho < +\infty, \quad 0 \leq \theta \leq \pi, \quad 0 \leq \varphi < 2\pi.$$

Šiomis nelygybėmis erdvėje \mathbb{R}^3 aprašoma sritis $\tilde{\Omega}$, kurios vaizdas toks



Lygtys (5) sritį $\tilde{\Omega}$ perveda į visą erdvę \mathbb{R}^3 . Koordinatinės kreivės ϱ (kreivės x^1) yra spinduliai išeinantys iš koordinačių pradžios taško. Koordinatinės kreivės θ (kreivės x^2) yra pusapskritimiai, kurių centrai sutampa

su koordinatinių pradžia, o jų plokštumos eina per ašį Oz . Kreivės φ (kreivės x^3) yra apskritimai su centrais ašyje Oz .



Pagal (2) turime:

$$\begin{aligned} \mathbf{r}_1 &= \left(\frac{\partial x}{\partial \varrho}, \frac{\partial y}{\partial \varrho}, \frac{\partial z}{\partial \varrho} \right) = (\sin \theta \cos \varphi, \sin \theta \sin \varphi, \cos \theta), \\ \mathbf{r}_2 &= \left(\frac{\partial x}{\partial \theta}, \frac{\partial y}{\partial \theta}, \frac{\partial z}{\partial \theta} \right) = (\varrho \cos \theta \cos \varphi, \varrho \cos \theta \sin \varphi, -\varrho \sin \theta), \\ \mathbf{r}_3 &= \left(\frac{\partial x}{\partial \varphi}, \frac{\partial y}{\partial \varphi}, \frac{\partial z}{\partial \varphi} \right) = (-\varrho \sin \theta \sin \varphi, \varrho \sin \theta \cos \varphi, 0). \end{aligned}$$

Kadangi $\mathbf{r}_1 \mathbf{r}_2 = \mathbf{r}_2 \mathbf{r}_3 = \mathbf{r}_1 \mathbf{r}_3 = 0$, tai $\mathbf{r}_1, \mathbf{r}_2, \mathbf{r}_3$ yra ortogonalios bazė. Be to vektoriai $\mathbf{r}_1, \mathbf{r}_2, \mathbf{r}_3$ sudaro dešininę sistemą, todėl skaičiuojant $\mathbf{r}^1, \mathbf{r}^2, \mathbf{r}^3$ galima naudoti (3) formules. Kadangi

$$\begin{aligned} H_1 &= |\mathbf{r}_1| = \sqrt{\sin^2 \theta \cos^2 \varphi + \sin^2 \theta \sin^2 \varphi + \cos^2 \theta} = 1, \\ H_2 &= |\mathbf{r}_2| = \sqrt{\varrho^2 \cos^2 \theta \cos^2 \varphi + \varrho^2 \cos^2 \theta \sin^2 \varphi + \varrho^2 \sin^2 \theta} = \varrho, \\ H_3 &= |\mathbf{r}_3| = \sqrt{\varrho^2 \sin^2 \theta \sin^2 \varphi + \varrho^2 \sin^2 \theta \cos^2 \varphi} = \varrho \sin \theta, \end{aligned}$$

tai

$$\begin{aligned} \mathbf{r}^1 &= \frac{1}{H_1} \mathbf{r}_1 = (\sin \theta \cos \varphi, \sin \theta \sin \varphi, \cos \theta), \\ \mathbf{r}^2 &= \frac{1}{H_2} \mathbf{r}_2 = \left(\frac{\cos \theta \cos \varphi}{\varrho}, \frac{\cos \theta \sin \varphi}{\varrho}, -\frac{\sin \theta}{\varrho} \right), \\ \mathbf{r}^3 &= \frac{1}{H_3} \mathbf{r}_3 = \left(-\frac{\sin \varphi}{\varrho \sin \theta}, \frac{\cos \varphi}{\varrho \sin \theta}, 0 \right). \end{aligned}$$

Uždaviniai

1. Erdvėje \mathbb{R}^3 kreivinės koordinatės u, v susiję su Dekarto koordinatėmis x, y lygybėmis

$$\begin{aligned} u &= x + y \\ v &= x - y \end{aligned}$$

Raskite kreivinę bazę $\mathbf{r}_u, \mathbf{r}_v$ ir jai dualią bazę. Kam lygūs vektoriai $\mathbf{r}_u, \mathbf{r}_v, \mathbf{r}^u, \mathbf{r}^v$ taške $M(x = 2, y = 3)$?

2. Lygybės

$$\begin{cases} x = u + v, \\ y = u^2, \end{cases} \quad u \geq 0, v \geq 0,$$

erdvėje $(\mathbb{R}^2)^+ = \{(x, y) : x \geq 0, y \geq 0\}$ apibėžia kreivines koordinates. Nubrėžkite koordinatinių kreivių šeimas, raskite kreivinę bazę $\mathbf{r}_u, \mathbf{r}_v$ ir jai dualią bazę $\mathbf{r}^u, \mathbf{r}^v$.

3. Lygybės

$$\begin{cases} x = \varrho \cos^3 \varphi \cos^3 \theta, \\ y = \varrho \sin^3 \varphi \cos^3 \theta, \\ z = \varrho \sin^3 \theta, \end{cases} \quad \varrho \geq 0, 0 \leq \varphi < 2\pi, -\frac{\pi}{2} \leq \theta \leq \frac{\pi}{2}.$$

erdvėje \mathbb{R}^3 apibrėžia kreivines koordinates ϱ, φ, θ . Raskite kreivinę bazę $\mathbf{r}_\varrho, \mathbf{r}_\varphi, \mathbf{r}_\theta$ ir jai dualią bazę $\mathbf{r}^\varrho, \mathbf{r}^\varphi, \mathbf{r}^\theta$.

4. Lygybės

$$\begin{cases} x = s, \\ y = s^2 + v^2, \\ z = s^3 + v^3 + t^3, \end{cases} \quad s \geq 0, v \geq 0, t \geq 0,$$

erdvėje $(\mathbb{R}^3)^+ = \{(x, y, z) : x \geq 0, y \geq 0, z \geq 0\}$ apibrėžia kreivines koordinates s, v, t . Raskite kreivinę bazę $\mathbf{r}_s, \mathbf{r}_v, \mathbf{r}_t$ ir jai dualią bazę $\mathbf{r}^s, \mathbf{r}^v, \mathbf{r}^t$. Kam lygūs šie vektoriai taške $M(x = 1, y = 2, z = 3)$?

8.9 Gradijentas kreivinėse koordinatėse

Sakykime $u : \Omega \rightarrow \mathbb{R}$ yra skaliarinis laukas, srityje Ω yra kreivinė koordinačių sistema (x^1, x^2, x^3) , ir laukas u yra diferencijuojamas srityje Ω . Tuomet kiekviename taške $M \in \Omega$ egzistuoja gradus ir $\frac{\partial u}{\partial \mathbf{e}}$ bet kuria kryptimi \mathbf{e} .

Tegul $\mathbf{r}_1, \mathbf{r}_2, \mathbf{r}_3$ yra kreivinė bazė, o $\mathbf{r}^1, \mathbf{r}^2, \mathbf{r}^3$ jai duali. Kadangi $u = u(x, y, z)$,

$$\begin{aligned} x &= x(x^1, x^2, x^3), \\ y &= y(x^1, x^2, x^3), \\ z &= z(x^1, x^2, x^3), \end{aligned}$$

tai $u = u(x(x^1, x^2, x^3), y(x^1, x^2, x^3), z(x^1, x^2, x^3))$.

Pagal sudėtinės funkcijos išvestinės radimo taisyklę turime:

$$\frac{\partial u}{\partial x^i} = \frac{\partial u}{\partial x} \frac{\partial x}{\partial x^i} + \frac{\partial u}{\partial y} \frac{\partial y}{\partial x^i} + \frac{\partial u}{\partial z} \frac{\partial z}{\partial x^i} \quad i = 1, 2, 3.$$

Dydžiai $\frac{\partial u}{\partial x}, \frac{\partial u}{\partial y}, \frac{\partial u}{\partial z}$ yra vektoriaus gradus koordinates bazėje $\mathbf{i}, \mathbf{j}, \mathbf{k}$, o $\frac{\partial x}{\partial x^i}, \frac{\partial y}{\partial x^i}, \frac{\partial z}{\partial x^i}$ yra vektoriaus \mathbf{r}_i koordinates. Vadinasi, paskutinę lygybę galime užrašyti taip:

$$\frac{\partial u}{\partial x^i} = \mathbf{r}_i \text{ grad } u, \quad i = 1, 2, 3.$$

Iš Gibso formulų (žr. 8.1 skyrelį) turime

$$\text{grad } u = (\text{grad } u \cdot \mathbf{r}_i) \mathbf{r}^i = \frac{\partial u}{\partial x^i} \mathbf{r}^i.$$

Taigi, skaliarinio lauko u gradijentas kreivinėse koordinatėse $\mathbf{r}_1, \mathbf{r}_2, \mathbf{r}_3, \mathbf{r}^1, \mathbf{r}^2, \mathbf{r}^3$ turi išraišką

$$\text{grad } u = \frac{\partial u}{\partial x^i} \mathbf{r}^i = \frac{\partial u}{\partial x^1} \mathbf{r}^1 + \frac{\partial u}{\partial x^2} \mathbf{r}^2 + \frac{\partial u}{\partial x^3} \mathbf{r}^3. \quad (1)$$

Kai kreivinių koordinačių sistema $\mathbf{r}_1, \mathbf{r}_2, \mathbf{r}_3$ ortogonalios, gradus gauna paprastesnę išraišką, nes šiuo kart duali bazė randama pagal 8.8 skyrelio (3) formules. Panaudojus šias formules gauname

$$\text{grad } u = \frac{\partial u}{\partial x^1} \frac{1}{H_1^2} \mathbf{r}_1 + \frac{\partial u}{\partial x^2} \frac{1}{H_2^2} \mathbf{r}_2 + \frac{\partial u}{\partial x^3} \frac{1}{H_3^2} \mathbf{r}_3 = \frac{1}{H_1^2} \frac{\partial u}{\partial x^1} \mathbf{r}_1 + \frac{1}{H_2^2} \frac{\partial u}{\partial x^2} \mathbf{r}_2 + \frac{1}{H_3^2} \frac{\partial u}{\partial x^3} \mathbf{r}_3. \quad (2)$$

Jei ortogonalią kreivinę bazę $\mathbf{r}_1, \mathbf{r}_2, \mathbf{r}_3$ ortonormuosime, tai gausime ortonormuotą kreivinę bazę $\mathbf{e}_1 = \frac{\mathbf{r}_1}{H_1}$, $\mathbf{e}_2 = \frac{\mathbf{r}_2}{H_2}$, $\mathbf{e}_3 = \frac{\mathbf{r}_3}{H_3}$. Joje gradu išraiška dar paprastesnė. Būtent

$$\text{grad} u = \frac{1}{H_1} \frac{\partial u}{\partial x^1} \mathbf{e}_1 + \frac{1}{H_2} \frac{\partial u}{\partial x^2} \mathbf{e}_2 + \frac{1}{H_3} \frac{\partial u}{\partial x^3} \mathbf{e}_3. \quad (3)$$

Skaliarinio lauko kryptinės išvestinės išraiška kreivinėse koordinatėse taipogi pasikeičia. Galima parodyti, kad teisinga tokia lygybė:

$$\frac{\partial u}{\partial \mathbf{e}} = \frac{\partial u}{\partial x^1} e^1 + \frac{\partial u}{\partial x^2} e^2 + \frac{\partial u}{\partial x^3} e^3. \quad (4)$$

kur e^1, e^2, e^3 yra vienetinio vektoriaus \mathbf{e} kontravariantinės koordinatės, t. y. koordinatės bazėje $\mathbf{r}_1, \mathbf{r}_2, \mathbf{r}_3$.

Uždaviniai

1. Skaliarinis laukas u polinėje koordinatėjų sistemoje ϱ, φ , kur

$$\begin{cases} x = \varrho \cos \varphi, \\ y = \varrho \sin \varphi, \end{cases} \quad \varrho \geq 0, 0 \leq \varphi < 2\pi,$$

aprašomas lygybe $u = \varrho^2 + \cos 2\varphi$. Raskite šio lauko gradientą taške $M(\varrho = 2, \varphi = \frac{3\pi}{4})$.

2. Skaliarinis laukas u polinėje koordinatėjų sistemoje ϱ, φ aprašomas lygybe $u = \varrho \cos \varphi$. Raskite šio lauko išvestinę kryptimi $\mathbf{e} = \mathbf{i} + \sqrt{3}\mathbf{j}$, bet kokiam taške $M(\varrho, \varphi)$.
3. Skaliarinis laukas u koordinatėjų sistemoje ϱ, φ, θ , kur

$$\begin{cases} x = \varrho \cos^3 \varphi \cos^3 \theta, \\ y = \varrho \sin^3 \varphi \cos^3 \theta, \\ z = \varrho \sin^3 \theta, \end{cases} \quad \varrho \geq 0, 0 \leq \varphi < 2\pi, -\frac{\pi}{2} \leq \theta \leq \frac{\pi}{2},$$

aprašomas lygtimi

$$u = \frac{\cos \varphi \cos \theta}{\varrho^3}.$$

Raskite šio lauko gradientą taške $M(x = 1, y = 1, z = 1)$.

4. Skaliarinis laukas u koordinatėjų sistemoje s, v, t , kur

$$\begin{cases} x = s, \\ y = s^2 + v^2, \\ z = s^3 + v^3 + t^3, \end{cases} \quad s \geq 0, v \geq 0, t \geq 0$$

aprašomas lygybe $u = svt$. Raskite šio lauko išvestines kryptimi $\mathbf{l}_1 = \mathbf{r}_s + \mathbf{r}_v + \mathbf{r}_t$ ir kryptimi $\mathbf{l}_2 = \mathbf{i} + \mathbf{j} + \mathbf{k}$.

8.10 Divergencija ir rotorius kreivinėse koordinatėse

Sakykime vektorinis laukas \mathbf{p} apibrėžtas srityje Ω , kurioje (toje srityje) įvesta kreivinė koordinatėjų sistema. Kai vektorinis laukas yra diferencijuojamas srityje Ω , tai kiekviename Ω egzistuoja $\text{rot} \mathbf{p}$ ir $\text{div} \mathbf{p}$. Be to kiekviename taške galima surasti $\frac{\partial \mathbf{p}}{\partial \mathbf{e}}$ bet kuria kryptimi \mathbf{e} .

I. Pradžioje rasime divergencijos $\text{div} \mathbf{p}$ išraišką kreivinėje bazėje $\mathbf{r}_i, \mathbf{r}^i, i = 1, 2, 3$.

Kadangi $\mathbf{p} = \mathbf{p}(x, y, z) = \mathbf{p}(x(x^1, x^2, x^3), y(x^1, x^2, x^3), z(x^1, x^2, x^3))$, tai

$$\frac{\partial \mathbf{p}}{\partial x^i} = \frac{\partial \mathbf{p}}{\partial x} \frac{\partial x}{\partial x^i} + \frac{\partial \mathbf{p}}{\partial y} \frac{\partial y}{\partial x^i} + \frac{\partial \mathbf{p}}{\partial z} \frac{\partial z}{\partial x^i}, \quad i = 1, 2, 3.$$

Be to

$$\frac{\partial \mathbf{p}}{\partial x} = \frac{\partial \mathbf{p}}{\partial \mathbf{i}} = A\mathbf{i}, \quad \frac{\partial \mathbf{p}}{\partial y} = \frac{\partial \mathbf{p}}{\partial \mathbf{j}} = A\mathbf{j}, \quad \frac{\partial \mathbf{p}}{\partial z} = \frac{\partial \mathbf{p}}{\partial \mathbf{k}} = A\mathbf{k},$$

kur A yra lauko \mathbf{p} diferencialinis operatorius (žr. 8.6 skyrelio (2) formulę). Operatorius A yra tiesinis, todėl

$$\frac{\partial \mathbf{p}}{\partial x^i} = A\mathbf{i} \frac{\partial x}{\partial x^i} + A\mathbf{j} \frac{\partial y}{\partial x^i} + A\mathbf{k} \frac{\partial z}{\partial x^i} = A \left(\frac{\partial x}{\partial x^i} \mathbf{i} + \frac{\partial y}{\partial x^i} \mathbf{j} + \frac{\partial z}{\partial x^i} \mathbf{k} \right) = A\mathbf{r}_i.$$

Pagal apibrėžimą

$$\operatorname{div} \mathbf{p} = \operatorname{div} A = \mathbf{r}^i A\mathbf{r}_i.$$

Todėl iš paskutinės lygybės

$$\operatorname{div} \mathbf{p} = \mathbf{r}^i A\mathbf{r}_i = \mathbf{r}^i \frac{\partial \mathbf{p}}{\partial x^i} = \mathbf{r}^1 \frac{\partial \mathbf{p}}{\partial x^1} + \mathbf{r}^2 \frac{\partial \mathbf{p}}{\partial x^2} + \mathbf{r}^3 \frac{\partial \mathbf{p}}{\partial x^3}. \quad (1)$$

Kai kreivinė bazė ortogonaliai divergencijos išraiška paprastesnė.

Kadangi šiuo atveju

$$\mathbf{r}^1 = \frac{1}{H_1^2} \mathbf{r}_1, \quad \mathbf{r}^2 = \frac{1}{H_2^2} \mathbf{r}_2, \quad \mathbf{r}^3 = \frac{1}{H_3^2} \mathbf{r}_3$$

(žr. (3) lygybę iš 8.8 skyrelio), tai

$$\operatorname{div} \mathbf{p} = \frac{1}{H_1^2} \frac{\partial \mathbf{p}}{\partial x^1} \mathbf{r}_1 + \frac{1}{H_2^2} \frac{\partial \mathbf{p}}{\partial x^2} \mathbf{r}_2 + \frac{1}{H_3^2} \frac{\partial \mathbf{p}}{\partial x^3} \mathbf{r}_3. \quad (2)$$

Kai kreivinė bazė ortonormuota divergencijos išraišką galima dar kitaip užrašyti.

Šiuo kart $\mathbf{e}_i = \frac{\mathbf{r}_i}{H_i}$ ir $\mathbf{p} = P^1 \mathbf{e}_1 + P^2 \mathbf{e}_2 + P^3 \mathbf{e}_3$. Tada

$$\begin{aligned} \operatorname{div} \mathbf{p} &= \frac{\partial \mathbf{p}}{\partial x^1} \frac{\mathbf{e}_1}{H_1} + \frac{\partial \mathbf{p}}{\partial x^2} \frac{\mathbf{e}_2}{H_2} + \frac{\partial \mathbf{p}}{\partial x^3} \frac{\mathbf{e}_3}{H_3} \\ &= \frac{1}{H_1 H_2 H_3} \left(\frac{\partial(P^1 H_2 H_3)}{\partial x^1} + \frac{\partial(P^2 H_3 H_1)}{\partial x^2} + \frac{\partial(P^3 H_1 H_2)}{\partial x^3} \right). \end{aligned} \quad (3)$$

II. Rasime lauko \mathbf{p} rotoriaus išraišką kreivinėje bazėje. Pagal apibrėžimą

$$\operatorname{rot} \mathbf{p} = \operatorname{rot} A = \mathbf{r}^i \times A\mathbf{r}_i = \mathbf{r}^1 \times A\mathbf{r}_1 + \mathbf{r}^2 \times A\mathbf{r}_2 + \mathbf{r}^3 \times A\mathbf{r}_3.$$

Kadangi $A\mathbf{r}_i = \frac{\partial \mathbf{p}}{\partial x^i}$, tai

$$\operatorname{rot} \mathbf{p} = \mathbf{r}^1 \times \frac{\partial \mathbf{p}}{\partial x^1} + \mathbf{r}^2 \times \frac{\partial \mathbf{p}}{\partial x^2} + \mathbf{r}^3 \times \frac{\partial \mathbf{p}}{\partial x^3}. \quad (4)$$

Kai kreivinė bazė ortogonaliai

$$\mathbf{r}^i = \frac{1}{H_i^2} \mathbf{r}_i,$$

todėl

$$\operatorname{rot} \mathbf{p} = \frac{1}{H_1^2} \left(\mathbf{r}_1 \times \frac{\partial \mathbf{p}}{\partial x^1} \right) + \frac{1}{H_2^2} \left(\mathbf{r}_2 \times \frac{\partial \mathbf{p}}{\partial x^2} \right) + \frac{1}{H_3^2} \left(\mathbf{r}_3 \times \frac{\partial \mathbf{p}}{\partial x^3} \right). \quad (5)$$

Kai kreivinė bazė ortonormuota $\mathbf{e}_1 = \frac{\mathbf{r}_1}{H_1}$, $\mathbf{e}_2 = \frac{\mathbf{r}_2}{H_2}$, $\mathbf{e}_3 = \frac{\mathbf{r}_3}{H_3}$ ir $\mathbf{p} = (P^1, P^2, P^3)$ bazėje $\mathbf{e}_1, \mathbf{e}_2, \mathbf{e}_3$, gauname

$$\begin{aligned} \operatorname{rot} \mathbf{p} &= \\ &= \left(\frac{1}{H_2 H_3} \left(\frac{\partial(P^3 H_3)}{\partial x^2} - \frac{\partial(P^2 H_2)}{\partial x^3} \right), \frac{1}{H_3 H_1} \left(\frac{\partial(P^1 H_1)}{\partial x^3} - \frac{\partial(P^3 H_3)}{\partial x^1} \right), \frac{1}{H_1 H_2} \left(\frac{\partial(P^2 H_2)}{\partial x^1} - \frac{\partial(P^1 H_1)}{\partial x^2} \right) \right) \end{aligned} \quad (6)$$

bazėje $\mathbf{e}_1, \mathbf{e}_2, \mathbf{e}_3$.

III. Gausime kryptinės išvestinės išraišką kreivinėje bazėje $\mathbf{r}_1, \mathbf{r}_2, \mathbf{r}_3$. Kadangi

$$\frac{\partial \mathbf{p}}{\partial \mathbf{e}} = A \mathbf{e}$$

(žr. (2) lygybę iš 8.6 skyrelio), tai vektoriui $\mathbf{e} = e^1 \mathbf{r}_1 + e^2 \mathbf{r}_2 + e^3 \mathbf{r}_3$ kreivinėje bazėje $\mathbf{r}_1, \mathbf{r}_2, \mathbf{r}_3$ turime

$$\frac{\partial \mathbf{p}}{\partial \mathbf{e}} = A(e^i \mathbf{r}_i) = e^i A \mathbf{r}_i.$$

Pagal I-ąją dalį

$$A \mathbf{r}_i = \frac{\partial \mathbf{p}}{\partial x^i}.$$

Vadinasi,

$$\frac{\partial \mathbf{p}}{\partial \mathbf{e}} = e^i \frac{\partial \mathbf{p}}{\partial x^i} = e^1 \frac{\partial \mathbf{p}}{\partial x^1} + e^2 \frac{\partial \mathbf{p}}{\partial x^2} + e^3 \frac{\partial \mathbf{p}}{\partial x^3}. \quad (7)$$

Uždaviniai

1. Vektorinis laukas polinėje koordinatinių sistemoje ϱ, φ nusakytas lygybe $\mathbf{p} = \varrho \mathbf{r}_\varrho + \varrho^2 \mathbf{r}_\varphi$. Raskite šio lauko divergenciją ir rotorių taške $M(x = 1, y = 1)$.
2. Vektorinis laukas polinėje koordinatinių sistemoje ϱ, φ nusakytas lygybe $\mathbf{p} = \cos \varphi \mathbf{r}_\varrho + \sin \varphi \mathbf{r}_\varphi$. Kokiuose plokštumos \mathbb{R}^2 taškuose šio lauko rotorius lygiagretus vektoriui $\mathbf{i} + \mathbf{j}$?
3. Vektorinis laukas \mathbf{p} koordinatinių sistemoje ϱ, φ, θ , kur

$$\begin{cases} x = \varrho \cos^3 \varphi \cos^3 \theta, \\ y = \varrho \sin^3 \varphi \cos^3 \theta, \\ z = \varrho \sin^3 \theta, \end{cases} \quad \varrho \geq 0, 0 \leq \varphi < 2\pi, -\frac{\pi}{2} \leq \theta \leq \frac{\pi}{2},$$

aprašomas lygybe

$$\mathbf{p} = \frac{1}{\varrho} \mathbf{r}_\varrho + \frac{\cos \varphi}{\varrho} \mathbf{r}_\varphi + \frac{\cos \theta}{\varphi} \mathbf{r}_\theta.$$

Raskite šio lauko rotorių ir divergenciją taške $M(\varrho = 1, \varphi = \frac{\pi}{4}, \theta = \frac{\pi}{3})$.

4. Vektorinis laukas \mathbf{p} koordinatinių sistemoje s, v, t , kur

$$\begin{cases} x = s, \\ y = s^2 + v^2, \\ z = s^3 + v^3 + t^3, \end{cases} \quad s \geq 0, v \geq 0, t \geq 0,$$

aprašomas lygybe

$$\mathbf{p} = v t \mathbf{r}_s + s t \mathbf{r}_v + s v \mathbf{r}_t.$$

Raskite šio lauko rotorių ir divergenciją taške $M(s, v, t)$.

5. Vektorinis laukas \mathbf{p} koordinatinių sistemoje ϱ, φ, θ , kur

$$\begin{cases} x = \varrho \cos \varphi \cos^5 \theta, \\ y = \varrho \sin \varphi \cos^5 \theta, \\ z = \varrho \sin^5 \theta, \end{cases} \quad \varrho \geq 0, 0 \leq \varphi < 2\pi, -\frac{\pi}{2} \leq \theta \leq \frac{\pi}{2},$$

aprašomas lygybe

$$\mathbf{p} = \varrho \varphi \mathbf{r}_\varrho + \cos \varphi \mathbf{r}_\varphi + \theta \mathbf{r}_\theta.$$

Raskite lauko išvestinę kryptimi $\mathbf{l}_1 = \mathbf{r}_\varrho + \mathbf{r}_\varphi + \mathbf{r}_\theta$ taške $M_1(\varrho, \varphi, \theta)$ ir išvestinę kryptimi $\mathbf{l}_2 = \mathbf{i} + \mathbf{j}$ taške $M_2(x = 1, y = 1, z = 0)$.

8.11 Laplaso operatorius kreivinėse koordinatėse

Sakykime u yra duotas du kartus diferencijuojamas skaliarinis laukas srityje Ω . Iš 8.7 skyrelio turime

$$\Delta_L u = \operatorname{div} \operatorname{grad} u.$$

Sakykime $\mathbf{e}_1, \mathbf{e}_2, \mathbf{e}_3$ yra ortonormuota kreivinė bazė.

Iš 8.9 skyrelio (3) lygybės turime

$$\operatorname{grad} u = \frac{1}{H_1} \frac{\partial u}{\partial x^1} \mathbf{e}_1 + \frac{1}{H_2} \frac{\partial u}{\partial x^2} \mathbf{e}_2 + \frac{1}{H_3} \frac{\partial u}{\partial x^3} \mathbf{e}_3.$$

O iš 8.10 skyrelio (3) lygybės gauname

$$\Delta_L u = \operatorname{div} \operatorname{grad} u = \frac{1}{H_1 H_2 H_3} \left(\frac{\partial}{\partial x^1} \left(\frac{H_2 H_3}{H_1} \frac{\partial u}{\partial x^1} \right) + \frac{\partial}{\partial x^2} \left(\frac{H_3 H_1}{H_2} \frac{\partial u}{\partial x^2} \right) + \frac{\partial}{\partial x^3} \left(\frac{H_1 H_2}{H_3} \frac{\partial u}{\partial x^3} \right) \right).$$

Uždaviniai

1. Skaliarinis laukas u polinėje koordinatinių sistemoje ϱ, φ , kur

$$\begin{cases} x = \varrho \cos \varphi, \\ y = \varrho \sin \varphi, \end{cases} \quad \varrho \geq 0, 0 \leq \varphi < 2\pi,$$

aprašomas lygybe $u = \varrho^2 \cos \varphi \sin^2 \varphi$. Raskite $\Delta_L u$ taške $M(\varrho, \varphi)$.

2. Skaliarinis laukas u koordinatinių sistemoje ϱ, φ, θ , kur

$$\begin{cases} x = \varrho \cos \varphi \cos^5 \theta, \\ y = \varrho \sin \varphi \cos^5 \theta, \\ z = \varrho \sin^5 \theta, \end{cases} \quad \varrho \geq 0, 0 \leq \varphi < 2\pi, -\frac{\pi}{2} \leq \theta \leq \frac{\pi}{2},$$

aprašomas lygybe

$$u = \varrho \cos \varphi \sin \theta.$$

Raskite $\Delta_L u$ taške $M(\varrho = 2, \varphi = \frac{\pi}{4}, \theta = \frac{\pi}{3})$.

3. Skaliarinis laukas u koordinatinių sistemoje ϱ, φ, θ , kur

$$\begin{cases} x = \varrho \cos^3 \varphi \cos^3 \theta, \\ y = \varrho \sin^3 \varphi \cos^3 \theta, \\ z = \varrho \sin^3 \theta, \end{cases} \quad \varrho \geq 0, 0 \leq \varphi < 2\pi, -\frac{\pi}{2} \leq \theta \leq \frac{\pi}{2},$$

aprašomas lygybe


$$u = \varrho \operatorname{tg} \varphi \cos \theta.$$

Raskite $\Delta_L u$ taške $M(\varrho, \varphi, \theta)$.

8.12 Pagrindinės lauko operacijos cilindrinėse ir sferinėse koordinatėse

I. Cilindrinė koordinačių sistema.

Ją sudaro kreiviniai vektoriai $\mathbf{r}_\varrho, \mathbf{r}_\varphi, \mathbf{r}_z$.



Ortonormavę $\mathbf{r}_\varrho, \mathbf{r}_\varphi, \mathbf{r}_z$, gauname vektorius $\mathbf{e}_\varrho, \mathbf{e}_\varphi, \mathbf{e}_z$. Sakykime srityje Ω turime skaliarinį diferencijuojamą lauką $u = u(\varrho, \varphi, z)$ ir vektorinį lauką $\mathbf{p} = (P_\varrho(\varrho, \varphi, z), P_\varphi(\varrho, \varphi, z), P_z(\varrho, \varphi, z))$.

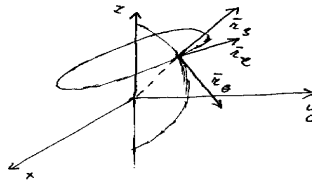
Šiuo kart $H_1 = 1, H_2 = \varrho, H_3 = 1$ (žr. 8.8 skyrelį).

Iš 8.9 (3), 8.10 (3), 8.10 (6) ir 8.11 skyrelio formulių gauname:

$$\begin{aligned} \text{grad} u &= \frac{\partial u}{\partial \varrho} \mathbf{e}_\varrho + \frac{1}{\varrho} \frac{\partial u}{\partial \varphi} \mathbf{e}_\varphi + \frac{\partial u}{\partial z} \mathbf{e}_z, \\ \text{div} \mathbf{p} &= \frac{1}{\varrho} \frac{\partial}{\partial \varrho} (\varrho P_\varrho) + \frac{1}{\varrho} \frac{\partial P_\varphi}{\partial \varphi} + \frac{\partial P_z}{\partial z}, \\ \text{rot} \mathbf{p} &= \left(\frac{1}{\varrho} \frac{\partial P_z}{\partial \varphi} - \frac{\partial P_\varphi}{\partial z} \right) \mathbf{e}_\varrho + \left(\frac{\partial P_\varrho}{\partial z} - \frac{\partial P_z}{\partial \varrho} \right) \mathbf{e}_\varphi + \left(\frac{1}{\varrho} \frac{\partial (\varrho P_\varphi)}{\partial \varrho} - \frac{1}{\varrho} \frac{\partial P_\varrho}{\partial \varphi} \right) \mathbf{e}_z, \\ \Delta_L u &= \frac{1}{\varrho} \frac{\partial}{\partial \varrho} \left(\varrho \frac{\partial u}{\partial \varrho} \right) + \frac{1}{\varrho^2} \frac{\partial^2 u}{\partial \varphi^2} + \frac{\partial^2 u}{\partial z^2}. \end{aligned}$$

II. Sferinė koordinačių sistema.

Ją sudaro kreiviniai vektoriai $\mathbf{r}_\varrho, \mathbf{r}_\theta, \mathbf{r}_\varphi$.



Ortonormavę $\mathbf{r}_\varrho, \mathbf{r}_\theta, \mathbf{r}_\varphi$, gauname vektorius $\mathbf{e}_\varrho, \mathbf{e}_\theta, \mathbf{e}_\varphi$. Sakykime srityje Ω turime diferencijuojamą skaliarinį lauką $u = u(\varrho, \theta, \varphi)$ ir vektorinį lauką $\mathbf{p} = (P_\varrho(\varrho, \varphi, \theta), P_\theta(\varrho, \varphi, \theta), P_\varphi(\varrho, \varphi, \theta))$. Šiuo kart Lamé koeficientai

$$H_1 = 1, \quad H_2 = \varrho, \quad H_3 = \varrho \sin \theta, \quad (\text{žr. 8.8 skyrelį})$$

Pagal tas pačias formules (žr. (3) iš 8.9, (3) ir (6) iš 8.10 ir 8.11 skyrelį) gauname

$$\begin{aligned} \operatorname{grad} u &= \frac{\partial u}{\partial \varrho} \mathbf{e}_\varrho + \frac{1}{\varrho} \frac{\partial u}{\partial \theta} \mathbf{e}_\theta + \frac{1}{\varrho \sin \theta} \frac{\partial u}{\partial \varphi} \mathbf{e}_\varphi, \\ \operatorname{div} \mathbf{p} &= \frac{1}{\varrho^2} \frac{\partial}{\partial \varrho} (\varrho^2 P_\varrho) + \frac{1}{\varrho \sin \theta} \frac{\partial}{\partial \theta} ((\sin \theta) P_\theta) + \frac{1}{\varrho \sin \theta} \frac{\partial P_\varphi}{\partial \varphi}, \\ \operatorname{rot} \mathbf{p} &= \frac{1}{\varrho \sin \theta} \left(\frac{\partial (\sin \theta P_\varphi)}{\partial \theta} - \frac{\partial P_\theta}{\partial \varphi} \right) \mathbf{e}_\varrho + \left(\frac{1}{\varrho \sin \theta} \frac{\partial P_\varrho}{\partial \varphi} - \frac{1}{\varrho} \frac{\partial (\varrho P_\varphi)}{\partial \varrho} \right) \mathbf{e}_\theta + \left(\frac{1}{\varrho} \frac{\partial (\varrho P_\theta)}{\partial \varrho} - \frac{1}{\varrho} \frac{\partial P_\varrho}{\partial \theta} \right) \mathbf{e}_\varphi, \\ \Delta_L u &= \frac{1}{\varrho^2} \frac{\partial}{\partial \varrho} \left(\varrho^2 \frac{\partial u}{\partial \varrho} \right) + \frac{1}{\varrho^2 \sin \theta} \frac{\partial}{\partial \theta} \left(\sin \theta \frac{\partial u}{\partial \theta} \right) + \frac{1}{\varrho^2 \sin^2 \theta} \frac{\partial^2 u}{\partial \varphi^2}. \end{aligned}$$

Uždaviniai

- Skaliarinis laukas u cilindrinėje koordinačių sistemoje ϱ, φ, z duotas lygtimi $u = \varrho \cos \varphi + z^2$. Raskite šio lauko gradientą ir Laplaso operatorių taške $M(\varrho = 2, \varphi = \frac{\pi}{2}, z = 1)$.
- Vektorinis laukas \mathbf{p} cilindrinėje koordinačių sistemoje ϱ, φ, z duotas lygtimi $\mathbf{p} = \varrho \varphi \mathbf{r}_\varrho + z \mathbf{r}_z$. Raskite šio lauko divergenciją ir rotorių.
- Vektorinis laukas \mathbf{p} sferinėje koordinačių sistemoje ϱ, θ, φ duotas lygtimi $\mathbf{p} = \cos \theta \mathbf{r}_\varrho + \cos \varphi \mathbf{r}_\theta + \varrho \mathbf{r}_\varphi$. Raskite šio lauko divergenciją ir rotorių.
- Skystis, užpildantis erdvės dalį, sukasi apie ašį Oz prieš laikrodžio rodyklę pastoviu kampiniu greičiu ω . Sakykime $\mathbf{v}(x, y, z)$ taško $M(x, y, z)$ greitis, o $\mathbf{w}(x, y, z)$ taško $M(x, y, z)$ pagreitis. Raskite vektorių \mathbf{v} ir \mathbf{w} divergencijas ir rotorius (patartina \mathbf{v} ir \mathbf{w} nagrinėti cilindrinėje koordinačių sistemoje).
- Erdvės tašką $M(x, y, z)$ veikia jėga \mathbf{F} , kuri nukreipta į koordinačių pradžios tašką O ir kurios dydis yra atvirkščiai proporcingas atstumo $|MO|$ kubui su proporcingumo koeficientu 2. Raskite jėgų lauko \mathbf{F} divergenciją ir rotorių taške $M(x, y, z)$.

8.13 Invariantinės Grino, Stokso ir Gauso-Ostrogradskio formulių išraiškos

Išraiškos, kurios bus gautos šiame skyrelyje vadinamos invariantinėmis, nes į jas įeina pagrindiniai vektorinio lauko invariantai.

I. Grino formulė. Buvo parodyta (žr. 7 skyrių), kad funkcijoms P, Q ir sričiai \mathcal{D} tenkinant tam tikras sąlygas teisinga lygybė

$$\iint_{\mathcal{D}} \left(\frac{\partial Q}{\partial x} - \frac{\partial P}{\partial y} \right) dx dy = \oint_{\partial \mathcal{D}} P dx + Q dy.$$

Sakykime vektorinis laukas $\mathbf{p} = (P, Q, 0)$ apibrėžtas srityje $\overline{\mathcal{D}} = \mathcal{D} \cup \partial \mathcal{D}$. Pagal 8.6 skyrelyje gautą formulę

$$\operatorname{rot} \mathbf{p} = \left(\frac{\partial Q}{\partial x} - \frac{\partial P}{\partial y} \right) \mathbf{k}.$$

Iš čia

$$\frac{\partial Q}{\partial x} - \frac{\partial P}{\partial y} = \mathbf{k} \operatorname{rot} \mathbf{p}.$$

Tarkime \mathbf{t} yra kreivės $\partial \mathcal{D}$ liestinės vienetinis vektorius, kurio kryptis suderinta su $\partial \mathcal{D}$ kryptimi. tegul $\mathbf{t} = (\cos \alpha, \sin \alpha)$, o kreivės $\partial \mathcal{D}$ parametras yra jos ilgis s .



Tada kreivės $\partial\mathcal{D}$ taškuose $dx = \cos \alpha ds$, $dy = \sin \alpha ds$.

Vadinasi, $\partial\mathcal{D}$ taškuose

$$P dx + Q dy = P \cos \alpha ds + Q \sin \alpha ds = (P, Q, 0)(\cos \alpha, \sin \alpha, 0) ds = \mathbf{p} \cdot \mathbf{t} ds.$$

Išstatę į Grino formulę diferencijuojamam vektoriniam laukui $\mathbf{p} = (P, Q, 0)$ gauname:

$$\iint_{\mathcal{D}} \mathbf{k} \operatorname{rot} \mathbf{p} dx dy = \oint_{\partial\mathcal{D}} \mathbf{p} \mathbf{t} ds, \quad (1)$$

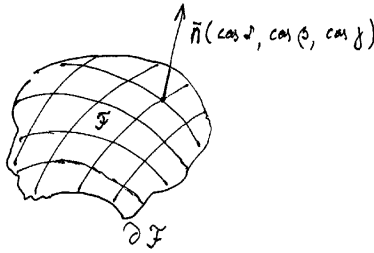
čia \mathcal{D} – jungi sritis plokštumoje \mathbb{R}^2 , $\partial\mathcal{D}$ – srities \mathcal{D} siena, \mathbf{t} – kreivės $\partial\mathcal{D}$ liestinės vienetinis vektorius.
Dydis

$$\oint_{\mathcal{L}} \mathbf{p} \mathbf{t} ds$$

dažnai vadinamas vektorinio lauko \mathbf{p} cirkuliacija kreive \mathcal{L} .

II. Stokso formulė. 7 skyriuje buvo parodyta, kad funkcijoms P, Q, R ir paviršiui \mathcal{F} tenkinant tam tikras sąlygas teisinga lygybė

$$\iint_{\mathcal{F}} \left(\left(\frac{\partial R}{\partial y} - \frac{\partial Q}{\partial z} \right) \cos \alpha + \left(\frac{\partial P}{\partial z} - \frac{\partial R}{\partial x} \right) \cos \beta + \left(\frac{\partial Q}{\partial x} - \frac{\partial P}{\partial y} \right) \cos \gamma \right) dS = \oint_{\partial\mathcal{F}} P dx + Q dy + R dz.$$



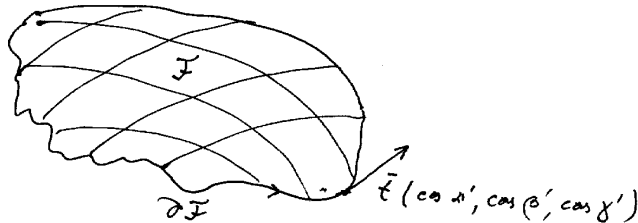
Sakykime vektorinis laukas $\mathbf{p} = (P, Q, R)$ apibrėžtas ir diferencijuojamas paviršiaus \mathcal{F} aplinkoje. Pagal 8.6 skyrelyje išvestą formulę

$$\operatorname{rot} \mathbf{p} = \left(\frac{\partial R}{\partial y} - \frac{\partial Q}{\partial z} \right) \mathbf{i} + \left(\frac{\partial P}{\partial z} - \frac{\partial R}{\partial x} \right) \mathbf{j} + \left(\frac{\partial Q}{\partial x} - \frac{\partial P}{\partial y} \right) \mathbf{k}.$$

Vadinasi,

$$\left(\frac{\partial R}{\partial y} - \frac{\partial Q}{\partial z} \right) \cos \alpha + \left(\frac{\partial P}{\partial z} - \frac{\partial R}{\partial x} \right) \cos \beta + \left(\frac{\partial Q}{\partial x} - \frac{\partial P}{\partial y} \right) \cos \gamma = \mathbf{n} \operatorname{rot} \mathbf{p}.$$

Sakykime vėlgi \mathbf{t} paviršiaus \mathcal{F} krašto $\partial\mathcal{F}$ liestinės vienetinis vektorius. Tegul $\mathbf{t} = (\cos \alpha', \cos \beta', \cos \gamma')$, o kreivės $\partial\mathcal{F}$ parametras tegul yra jos ilgis.



Kreivės $\partial\mathcal{F}$ taškuose $dx = \cos\alpha' ds$, $dy = \cos\beta' ds$, $dz = \cos\gamma' ds$. Vadinasi,

$$\int_{\partial\mathcal{F}} P dx + Q dy + R dz = \oint_{\partial\mathcal{F}} (P \cos\alpha' + Q \cos\beta' + R \cos\gamma') ds = \oint_{\partial\mathcal{F}} \mathbf{p} \mathbf{t} ds.$$

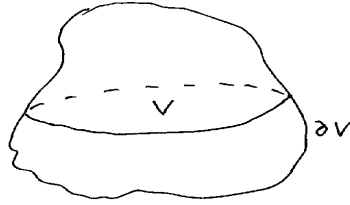
Remiantis gautomis lygybėmis galime užrašyti, kad vektoriniam diferencijuojamam laukui $\mathbf{p} = (P, Q, R)$

$$\iint_{\mathcal{F}} \mathbf{n} \operatorname{rot} \mathbf{p} dS = \oint_{\partial\mathcal{F}} \mathbf{p} \mathbf{t} ds, \quad (2)$$

čia \mathbf{n} – yra paviršiaus \mathcal{F} normalinis vektorius, \mathbf{t} – kreivės $\partial\mathcal{F}$ liestinės vektorius.

III. Gauso-Ostrogradskio formulė. 7 skyriuje buvo gauta, kad funkcijoms P, Q, R ir erdvinei sričiai V tenkinant tam tikras sąlygas teisinga lygybė

$$\iint_{\partial V} P dydz + Q dzdx + R dxdy = \iiint_V \left(\frac{\partial P}{\partial x} + \frac{\partial Q}{\partial y} + \frac{\partial R}{\partial z} \right) dxdydz.$$



Sakykime $\mathbf{p} = (P, Q, R)$ yra vektorinis diferencijuojamas laukas apibrėžtas aibėje $\bar{V} = V \cup \partial V$. Kadangi

$$\iint_{\partial V} P dydz + Q dzdx + R dxdy = \iint_{\partial V} (P \cos\alpha + Q \cos\beta + R \cos\gamma) dS$$

kur $\mathbf{n} = (\cos\alpha, \cos\beta, \cos\gamma)$ paviršiaus ∂V normalė (žr. 7 skyrių), tai

$$\iint_{\partial V} P dydz + Q dzdx + R dxdy = \iint_{\partial V} \mathbf{p} \mathbf{n} dS.$$

Antra vertus (žr. 8.6 skyrelį)

$$\frac{\partial P}{\partial x} + \frac{\partial Q}{\partial y} + \frac{\partial R}{\partial z} = \operatorname{div} \mathbf{p}.$$

Taigi diferencijuojamam vektoriniam laukui $\mathbf{p} = (P, Q, R)$ turime

$$\iiint_V \operatorname{div} \mathbf{p} dxdydz = \iint_{\partial V} \mathbf{p} \mathbf{n} dS, \quad (3)$$

čia \mathbf{n} yra paviršiaus ∂V normalinis vektorius.

Dydis $\iint_{\mathcal{F}} \mathbf{p} \mathbf{n} dS$ kaip ir 7 skyriuje vadinamas vektorinio lauko srautu per paviršių \mathcal{F} .

Uždaviniai

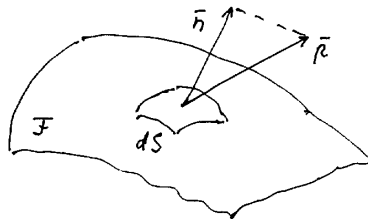
1. Raskite vektorinio lauko $\mathbf{p} = -y\mathbf{i} + x\mathbf{j} + 3\mathbf{k}$ cirkuliacijas apskritime $x^2 + y^2 = 1$, $z = 0$ ir apskritime $(x-2)^2 + y^2 = 1$, $z = 0$.
2. Raskite vektorinio lauko $\mathbf{p} = x\mathbf{i} + y\mathbf{j} + z\mathbf{k}$ cirkuliaciją sraigto linijoje: $x = \cos t$, $y = \sin t$, $z = 2t$, $t \in [0, 2\pi]$.
3. Raskite vektorinio lauko $\mathbf{p} = x^3\mathbf{i} + y^3\mathbf{j} + z^3\mathbf{k}$ srautą per sferą $x^2 + y^2 + z^2 = x$.

4. Raskite vektorinio lauko $\mathbf{p} = x\mathbf{i} + y\mathbf{j} + z\mathbf{k}$ srautą per paviršių $z = 1 - \sqrt{x^2 + y^2}$, $0 \leq z \leq 1$.
5. Raskite vektorinio lauko $\mathbf{p} = yz\mathbf{i} + xz\mathbf{j} + xy\mathbf{k}$ srautą per cilindro $x^2 + y^2 \leq a^2$, $0 \leq z \leq h$, šoninį paviršių. Raskite šio lauko srautą per visą minėto cilindro paviršių.
6. Raskite vektorinio lauko $\mathbf{p} = y\mathbf{i} + z\mathbf{j} + x\mathbf{k}$ rotoriaus $\text{rot } \mathbf{p}$ srautą per paviršių $z = 2(1 - x^2 - y^2)$, $z \geq 0$.

8.14 Vektorinio lauko charakteristikų fizikinė interpretacija

I. Vektorinio lauko \mathbf{p} srautas per paviršių \mathcal{F} , $\iint_{\mathcal{F}} \mathbf{np} \, dS$.

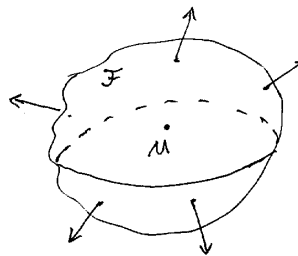
Sakykime \mathbf{p} yra judančio skysčio greičio vektorius. Tada \mathbf{p} srautas per paviršių \mathcal{F} yra pratekėjusio per laiko vienetą per paviršių \mathcal{F} skysčio tūris.



Bendru atveju $\iint_{\mathcal{F}} \mathbf{np} \, dS$ apibūdina tam tikro dydžio susijusio su lauku \mathbf{p} pernešimą per paviršių \mathcal{F} . Jei \mathcal{F} uždaras, tai pagal Gauso-Ostrogradskio formulę

$$\iint_{\mathcal{F}} \mathbf{np} \, dS = \iiint_V \text{div } \mathbf{p} \, dx dy dz.$$

Iš šios formulės matome, jei $\text{div } \mathbf{p} > 0$ kokiam nors taške M , tai per bet kokią uždara paviršių \mathcal{F} uždarančią tašką M srautas teigiamas. Skystis išteka iš taško M . T. y. taške M yra šaltinis.



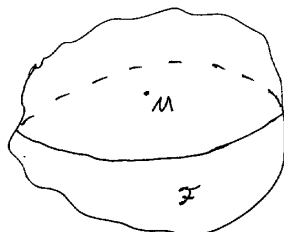
Jei $\text{div } \mathbf{p} < 0$ kokiam nors taške M , tai analogiškai gauname, kad skystis suteka į tašką M .

Nagrinėjant visą sritį Ω iš Gauso-Ostrogradskio formulės galima gauti, kad Ω nėra šaltinių ir sutekėjimo taškų tada ir tik tada, kai $\text{div } \mathbf{p} = 0$ visuose Ω taškuose.

II. Vektorinio lauko divergencija. Pagal Gauso-Ostrogradskio formulę turime

$$\iiint_V \text{div } \mathbf{p} \, dx dy dz = \iint_{\partial V} \mathbf{np} \, dS.$$

Fiksuokime tašką M . Nagrinėkime visus uždarus paviršius \mathcal{F} uždarančius tašką M .



Pažymėkime $d(\mathcal{F})$ uždaro paviršiaus \mathcal{F} diametrą, o V tegul yra to paviršiaus uždarytas kūnas. Jei $\text{div } \mathbf{p}$ yra tolydi funkcija, tai pagal vidurinių reikšmių teoremą dvilypiam integralui turėsime

$$\iiint_V \text{div } \mathbf{p} \, dx dy dz = \text{div } \mathbf{p}(M') V.$$

Tada iš Gauso-Ostrogradskio formulės

$$\text{div } \mathbf{p}(M') = \frac{1}{V} \iint_{\mathcal{F}} \mathbf{n} \mathbf{p} \, dS.$$

Gautoje lygybėje perėję prie ribos, kai $d(\mathcal{F}) \rightarrow 0$ gausime

$$\text{div } \mathbf{p}(M) = \lim_{d(\mathcal{F}) \rightarrow 0} \frac{1}{V} \iint_{\mathcal{F}} \mathbf{n} \mathbf{p} \, dS.$$

Dydis $\frac{1}{V} \iint_{\mathcal{F}} \mathbf{n} \mathbf{p} \, dS$ yra srauto per paviršių \mathcal{F} galia. Taigi $\text{div } \mathbf{p}(M)$ bus vektorinio lauko \mathbf{p} galia taške M .

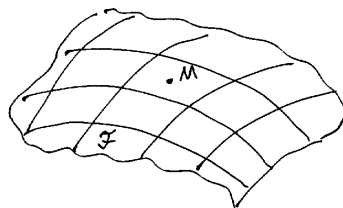
III. Vektorinio lauko \mathbf{p} cirkuliacija kreive \mathcal{L} : $\oint_{\mathcal{L}} \mathbf{p} \, dt \, ds$.

Jei \mathbf{p} yra jėgų laukas, tai $\oint_{\mathcal{L}} \mathbf{p} \, dt \, ds$ yra darbas, kurį atlieka laukas \mathbf{p} perkeldamas kūną uždara kreive \mathcal{L} .

Jei \mathbf{p} yra judančio skysčio greičių laukas, tai cirkuliacija $\oint_{\mathcal{L}} \mathbf{p} \, dt \, ds$ apibūdina sukamąjį skysčio judėjimą kreivės kryptimi. Pavyzdžiui, jei $\oint_{\mathcal{L}} \mathbf{p} \, dt \, ds > 0$, tai kreivės \mathcal{L} taškuose vyrauja greičiai kreivės \mathcal{L} kryptimi.

Bendruoju atveju vektorinio lauko cirkuliacija apibūdina vektorinio lauko sukurius.

IV. Vektorinio lauko rotorius. Sakykime \mathbf{p} yra judančio skysčio greičių laukas. Pasirenkame tašką M ir paviršių einantį per tašką M .



Iš Stokso formulės

$$\iint_{\mathcal{F}} \mathbf{n} \, \text{rot } \mathbf{p} \, dS = \oint_{\partial \mathcal{F}} \mathbf{p} \, dt \, ds.$$

Tegul $d(\mathcal{F})$ yra šio paviršiaus diametras. Sakykime $d(\mathcal{F}) \rightarrow 0$. $\oint_{\partial \mathcal{F}} \mathbf{p} \, dt \, ds$ apibūdina skysčio judėjimą kreivės $\partial \mathcal{F}$ kryptimi. Jei $d(\mathcal{F})$ mažas

$$\mathbf{n} \, \text{rot } \mathbf{p}(M) \approx \frac{1}{S(\mathcal{F})} \int_{\partial \mathcal{F}} \mathbf{p} \, dt \, ds.$$

Taigi $\operatorname{rot} \mathbf{p}(M)$ apibūdina skysčio judėjimą taško M aplinkoje. Pavyzdžiui, jei $\oint_{\partial \mathcal{F}} \mathbf{p} \, ds > 0$ visoms $\partial \mathcal{F}$, tai skystis sukasi apie normalę \mathbf{n} pagal sraigta. Jei $\oint_{\partial \mathcal{F}} \mathbf{p} \, ds < 0$ visoms $\partial \mathcal{F}$, tai skystis juda priešinga kryptimi. Jei $\operatorname{rot} \mathbf{p} = 0$ visuose kokios nors srities taškuose, tai skysčio judėjime nėra sukurių, t. y. $\oint_{\mathcal{L}} \mathbf{p} \, ds = 0$ visoms uždaroms kreivėms \mathcal{L} .

V. Vektorinis laukas \mathbf{p} vadinamas potencialiniu srityje Ω , jeigu to lauko cirkuliacija bet kuria uždara, gabalais glodžia srities Ω kreive lygi 0.

Iš 7 skyriuje gautų rezultatų išplaukia toks fizikinis tvirtinimas.

Teorema. Sakykime jungioje srityje Ω duotas diferencijuojamas vektorinis laukas $\mathbf{p} = (P, Q, R)$. Tuomet sekantys teiginiai ekvivalentūs:

- (1) Laukas \mathbf{p} potencialinis.
- (2) Srityje Ω egzistuoja potencialas $u : \Omega \rightarrow \mathbb{R}$, t. y. tokia funkcija, kuriai $\operatorname{grad} u = \mathbf{p}$ (arba $du = Pdx + Qdy + Rdz$).
- (3) Laukas \mathbf{p} neturi sukurių, t. y. $\operatorname{rot} \mathbf{p} = 0$.

VI. Vektorinis laukas \mathbf{p} vadinamas solenoidiniu srityje $\Omega \subset \mathbb{R}^3$, jeigu to lauko srautas per bet kurią dalimis glodų, savęs nekertantį paviršių iš srities Ω lygus 0.

Naudojantis Gauso-Ostrogradskio formulės invariantine išraiška galima įrodyti tokią teiginį.

Teorema. Tolydžiai diferencijuojamas vektorinis laukas \mathbf{p} yra solenoidinis jungioje srityje $\Omega \subset \mathbb{R}^3$ tada ir tik tada, kai visuose srities Ω taškuose $\operatorname{div} \mathbf{p} = 0$.

Uždaviniai

1. Kokį darbą atlieka laukas $\mathbf{p} = \frac{1}{y}\mathbf{i} + \frac{1}{z}\mathbf{j} + \frac{1}{x}\mathbf{k}$ perkeldamas materialų tašką iš taško $M(1, 1, 1)$ į tašką $N(2, 4, 8)$?
2. Kokį darbą atlieka laukas $\mathbf{p} = (y+z)\mathbf{i} + (2+x)\mathbf{j} + (x+y)\mathbf{k}$ perkeldamas materialų tašką iš taško $M(3, 4, 0)$ į tašką $N(0, 0, 5)$, jei perkėlimas vyksta sferos $x^2 + y^2 + z^2 = 25$ didžiojo apskritimo trumpiausiu lanku?
3. Kokį darbą atlieka laukas $\mathbf{p} = xy\mathbf{i} + yz\mathbf{j} + xz\mathbf{k}$ perkeldamas masės m kūną uždaru kontūru sudarytu iš atkarpos $x+z=1$, $y=0$, $0 \leq x \leq 1$, ketvirčio apskritimo $x^2 + y^2 = 1$, $z=0$ ir kitos atkarpos $y+z=1$, $x=0$, $0 \leq y \leq 1$.
4. Parodykite, kad laukas $\mathbf{p} = yz(2x+y+z)\mathbf{i} + xz(x+2y+z)\mathbf{j} + xy(x+y+2z)\mathbf{k}$ yra potencialinis ir raskite jo potencialą.
5. Parodykite, kad laukas

$$\mathbf{p} = \frac{2}{\sqrt{y+z}}\mathbf{i} - \frac{x}{\sqrt{(y+z)^3}}\mathbf{j} - \frac{x}{\sqrt{(y+z)^3}}\mathbf{k}$$

yra potencialinis ir raskite jo potencialą.

6. Vektorinis laukas \mathbf{p} turi pavidalą

$$\mathbf{p} = f(x^2 + y^2 + z^2)(x\mathbf{i} + y\mathbf{j} + z\mathbf{k}),$$

kur $f(z)$ tolydi funkcija $\mathbb{R}^+ \rightarrow \mathbb{R}^+$. Ar šis laukas potencialinis?

7. Vektorinis laukas \mathbf{p} taške $M(x, y, z)$ nukreiptas į tašką $O(0, 0, 0)$, o jo dydis atvirkščiai proporcingas taško M atstumui iki plokštumos Oxy . Ar šis laukas potencialinis? Ar šis laukas solenoidinis?
8. Kūnas sukasi apie ašį Oz pastoviu kampiniu greičiu ω . Sakykim \mathbf{v} yra greitis taške $M(x, y, z)$. Ar vektorinis laukas \mathbf{v} yra potencialinis? Ar laukas \mathbf{v} solenoidinis?
9. Nurodykite pavyzdį vektorinio potencialinio, solenoidinio lauko.

LITERATŪRA

1. V. Iljinas, E. Pozniakas, Matematinės analizės pagrindai. D.1-2. Vilnius: Mokslas, 1981.
2. V. Kabaila, Matematinė analizė. D. 1-2. Vilnius: Mokslas, 1983, 1986.
3. V. Pekarskas, Diferencialinis ir integralinis skaičiavimas. D. 1-2. Kaunas: Technologija, 1996, 2000.