



**ALYTAUS APSKRITIES JAUNŲJŲ MATEMATIKŲ
DVYLIKTOJI KOMANDINĖ OLIMPIADA
MOKYTOJO KAZIO KLIMAVIČIAUS TAUREI LAIMĖTI**

Simnas, 2007 m. gruodžio mėn. 1 d.
Uždavinių sprendimo trukmė – 2 val.


UŽDAVINIŲ SPRENDIMAS

1. Iš 5×5 kvadrato langelių galima sudaryti tris nesikertančias (neturinčias bendrų langelių) formos  figūras (žr. pav.).




Sprendimas. Atsakymas į pirmą klausimą yra teigiamas. Jį galima pagrįsti konkrečiu pavyzdžiu (žr. 1 pav.).

Atsakymas į antrąjį klausimą yra neigiamas. Nubrėžus 9 langelių kryžių (žr. 2 pav.), galima lengvai išsiaiškinti, kad kiekviena nagrinėjamos formos 5 langelių figūra uždengia ne mažiau kaip du šio kryžiaus langelius.



1 pav.



2 pav.

2. – Pasakyk, Jonai, kokia tavo gimimo data, – paprašė klasės draugas Petras.
– Nagi, atspėk pats, – atsakė Jonas.
– Tai kad čia labai daug galimybių...
– Gerai, padėsiu! Padauginęs mano gimimo mėnesio numerį iš 31, o gimimo datos dieną iš 12, gautum du skaičius. Šių skaičių suma būtų 384.

Raskite Jono gimimo datą (mėnesį ir dieną).

Sprendimas. Tegu x mėnesio numeris, o y – diena. Reikia išspręsti lygtį $31x + 12y = 384$ (ieškant sveikųjų sprendinių $(x; y)$). Pagal uždavinio sąlygą $x \in \{1; 2; 3; \dots; 12\}$, $y \in \{1; 2; 3; \dots; 31\}$. Parašę $31x = 384 - 12y = 4(96 - 3y)$, matome, kad x turi dalytis iš 4 (nes 31 yra pirminis skaičius). Vadinasi, $x \in \{4; 8; 12\}$. Tikrindami randame vienintelį sprendinį $(12, 1)$.

Ats.: Gruodžio pirmoji diena.

3. Natūralusis skaičius n turi du daliklius, o skaičius $(n+1)$ turi tris daliklius. Nustatykite, kiek daliklių turi natūralusis skaičius $(n+2)$.

Sprendimas. Aišku, kad n yra pirminis skaičius. Be to, $n \neq 2$, nes tada $(n+1)$ būtų pirminis skaičius 3 ir turėtų tik du daliklius. Taigi n yra nelyginis pirminis skaičius. Tada $(n+1)$ yra lyginis skaičius. Jo dalikliai turi būti 1, 2 ir $(n+1)$. Bet $n+1 = 2k$; todėl ir k turi būti daliklis. Jei $k > 2$, tai $(n+1)$ turėtų ne mažiau kaip 4 daliklius. Vadinasi, $k = 2$. Gauname, jog $n+1 = 4$ ir $n+2 = 5$. Šis skaičius turi 2 daliklius.

Ats.: 2.

4. Iš dešimties skaitmenų 0, 1, 2, ..., 9 sudarykite penkis dviženklis skaičius, kurių sandauga būtų didžiausia (kiekvieną skaitmenį galima panaudoti tik vieną kartą).

Sprendimas. Pradėkime nuo sandaugos $10 \cdot 23 \cdot 45 \cdot 67 \cdot 89$ ir keiskime jas naujomis:

$$10 \cdot 23 \cdot 45 \cdot 67 \cdot 89 < 19 \cdot 23 \cdot 45 \cdot 67 \cdot 80 < 91 \cdot 32 \cdot 54 \cdot 76 \cdot 80 <$$

$$< 91 \cdot 36 \cdot 54 \cdot 72 \cdot 80 < 90 \cdot 63 \cdot 54 \cdot 72 \cdot 81 = 9^5 (6 \cdot 7 \cdot 8 \cdot 9 \cdot 10).$$

Didesnės sandaugos gauti neįmanoma. Ši sandauga yra

$$90 \cdot 63 \cdot 54 \cdot 72 \cdot 81 = 1\,785\,641\,760.$$

Ats.: 54, 63, 72, 81, 90.

5. Iš eilės parašyti aštuoni natūralieji skaičiai. Pirmųjų penkių skaičių suma yra lygi paskutiniųjų trijų skaičių sumai. Raskite didžiausią skaičių (iš aštuonių).

Sprendimas. Tegu m yra pirmasis skaičius. Tada

$$m + (m + 1) + (m + 2) + (m + 3) + (m + 4) = (m + 5) + (m + 6) + (m + 7).$$

Iš čia gauname:

$$5m + 10 = 3m + 18,$$

$$2m = 8,$$

$$m = 4.$$

Didžiausias yra skaičius $m + 7$, taigi 11.

Ats.: 11.

6. Raskite visus realiuosius skaičius x , su kuriais galioja lygybė:

$$10^x + 11^x + 12^x = 13^x + 14^x.$$

Sprendimas. Padaliję lygtį iš 13^x , gausime lygtį

$$\left(\frac{10}{13}\right)^x + \left(\frac{11}{13}\right)^x + \left(\frac{12}{13}\right)^x = 1 + \left(\frac{14}{13}\right)^x.$$

Funkcija $y = \left(\frac{10}{13}\right)^x + \left(\frac{11}{13}\right)^x + \left(\frac{12}{13}\right)^x$ yra mažėjanti intervale $(-\infty; +\infty)$, o funkcija $y = 1 + \left(\frac{14}{13}\right)^x$ yra

didėjanti šiame intervale. Jų grafikų kreivės susikerta tik viename taške. Vadinasi, lygtis turi tik vieną sprendinį. Lengva patikrinti, kad $x = 2$ tenkina lygtį.

Ats.: 2.

7. Išspręskite lygčių sistemą

$$\begin{cases} x + y + z = 3, \\ 2xy - 2y - z^2 = 4. \end{cases}$$

Sprendimas. Iš pirmos lygties gauname $z = 3 - x - y$. Toliau pertvarkome antrą lygtį:

$$2xy - 2y - (3 - x - y)^2 - 4 = 0 \Rightarrow (x^2 - 6x + 9) + (y^2 - 4y + 4) = 0 \Rightarrow$$

$$\Rightarrow (x - 3)^2 + (y - 2)^2 = 0. \text{ Ši lygybė galioja tik tada, kai } x = 3 \text{ ir } y = 2. \text{ Vadinasi, } z = -2.$$

Sistema turi vienintelį sprendinį (3; 2; -2).

Ats.: (3; 2; -2).

8. Apskaičiuokite sumą

$$S = \frac{1}{2\sqrt{1} + 1 \cdot \sqrt{2}} + \frac{1}{3\sqrt{2} + 2\sqrt{3}} + \frac{1}{4\sqrt{3} + 3\sqrt{4}} + \dots + \frac{1}{100\sqrt{99} + 99\sqrt{100}}.$$

Sprendimas. Sumos dėmenis galima užrašyti formule $\frac{1}{(n+1)\sqrt{n} + n\sqrt{n+1}}$, $n = 1, 2, \dots, 99$.

Juos pertvarkykime taip:

$$\begin{aligned} \frac{1}{(n+1)\sqrt{n} + n\sqrt{n+1}} &= \frac{(n+1)\sqrt{n} - n\sqrt{n+1}}{(n+1)^2 n - n^2(n+1)} = \frac{(n+1)\sqrt{n} - n\sqrt{n+1}}{n^2 + n} = \\ &= \frac{(n+1)\sqrt{n} - n\sqrt{n+1}}{n(n+1)} = \frac{\sqrt{n}}{n} - \frac{\sqrt{n+1}}{n+1} = \frac{1}{\sqrt{n}} - \frac{1}{\sqrt{n+1}}; \quad n = 1, 2, 3, \dots, 99. \end{aligned}$$

Tada

$$S = \left(\frac{1}{\sqrt{1}} - \frac{1}{\sqrt{2}}\right) + \left(\frac{1}{\sqrt{2}} - \frac{1}{\sqrt{3}}\right) + \dots + \left(\frac{1}{\sqrt{99}} - \frac{1}{\sqrt{100}}\right) = 1 - 0,1 = 0,9.$$

Ats.: 0,9.

9. Apskaičiuokite sumą

$$S = \cos 1^\circ + \cos 2^\circ + \cos 3^\circ + \dots + \cos 359^\circ.$$

Sprendimas. Pagal formulę $\cos(2\pi - \alpha) = \cos \alpha$ turime:

$$\cos 359^\circ = \cos 1^\circ, \cos 358^\circ = \cos 2^\circ, \dots, \cos 181^\circ = \cos 179^\circ;$$

todėl

$$S = 2(\cos 1^\circ + \cos 2^\circ + \dots + \cos 179^\circ) + \cos 180^\circ.$$

Remdamiesi formule $\cos(\pi - \alpha) = -\cos \alpha$, gauname:

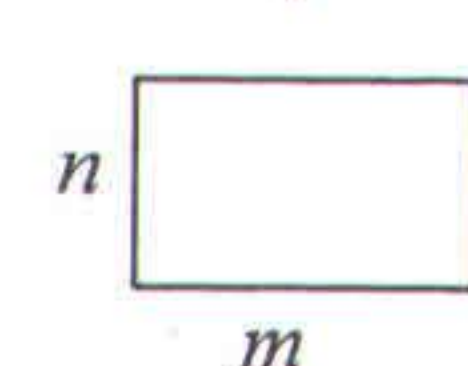
$$\cos 1^\circ + \cos 179^\circ = \cos 2^\circ + \cos 178^\circ = \dots = \cos 89^\circ + \cos 91^\circ = 0.$$

Vadinasi, $S = 2 \cos 90^\circ + \cos 180^\circ = -1$.

Ats.: -1.

10. Stačiakampio kraštinių ilgiai yra sveikieji skaičiai, o jų suma (stačiakampio perimetras) sutampa su skaičiumi, reiškiančiu šio stačiakampio plotą. Raskite stačiakampio kraštinių ilgius.

Sprendimas.



$$2(m + n) = mn,$$

$$2m - mn = -2n,$$

$$m = \frac{-2n}{2 - n} = \frac{2n}{n - 2}.$$

Matome, kad $n > 2$. Be to, galima pertvarkyti formulę: $m = 2 + \frac{4}{n - 2}$. Dabar matyti, kad $n \in \{3; 4; 6\}$. Galimi atsakymai (rašant $(m; n)$): (6; 3), (4; 4) ir (3; 6).

Ats.: stačiakampio kraštinių ilgiai 6 ir 3, o kvadrato - 4 (jis irgi tiktų, jeigu kvadratą laikytume stačiakampiu).